






# PRISMAS Y PIRÁMIDES

1. Observa los siguientes prismas y pirámides y completa la tabla.

POLIEDRO	PRISMA	PIRÁMIDE	CARAS	ARISTAS	VÉRTICES	NOMBRE
	X		6	12	8	Prisma cuadrangular
						
						
						
						

2. Une con una línea el prisma o la pirámide con su respectivo desarrollo.

