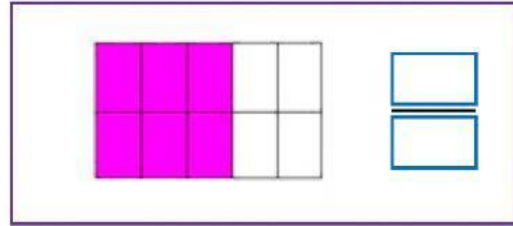
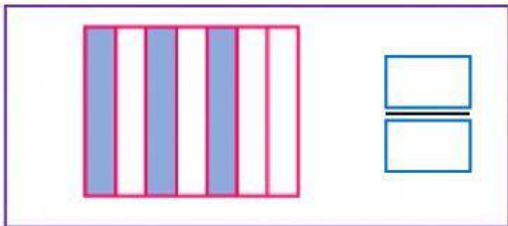
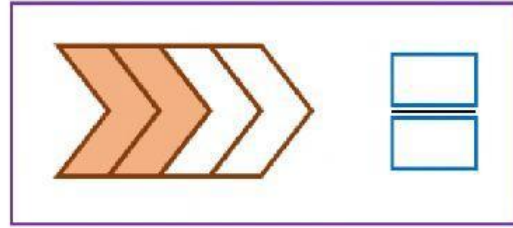
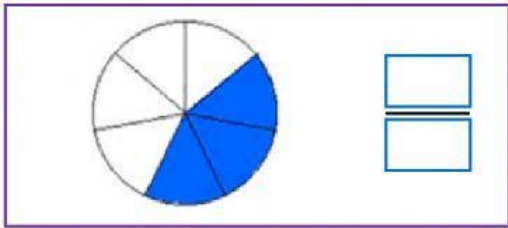


Fracciones de la unidad y de un conjunto 3°

1. Escribe la fracción que representa la parte coloreada de cada unidad.



2. Lee cada situación y escribe la fracción correspondiente.

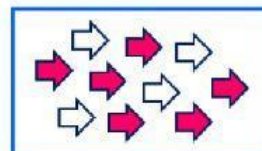

Escribe la fracción de gatos que están por fuera de la caja



Escribe la fracción de animales que están en árboles.



3. Une cada conjunto con la fracción que representa la parte coloreada en cada caso.



$$\frac{6}{10}$$

$$\frac{3}{6}$$

$$\frac{5}{8}$$