

Nama :

No.Absen :



PENILAIAN TENGAH SEMESTER GASAL
MI MUHAMMADIYAH 2 KUDUS PROGRAM KHUSUS
TAHUN PELAJARAN 2019/2020

Mata Pelajaran : MTK
Kelas : I (Satu)

Hari, tanggal : Selasa, 24 September 2019
Waktu : 07.00 – 09.00 WIB

I. Berilah tanda silang (X) pada huruf a, b, atau c untuk jawaban yang benar!

1. Kakak Lia mempunyai
... . Pensil

- a. Dua
- b. Tiga
- c. Empat



2. Nama bilangan dimeja
disamping adalah

- a. Lima
- b. Enam
- c. Tujuh




3.



Jumlah jari tangan kamu adalah

- a. Sepuluh
- b. Sembilan
- c. Delapan

4.



7 Sampo + 2 Sisir =

- a. Sepuluh
- b. Sembilan
- c. Delapan

5.



Huruf – huruf diatas disusun menjadi
lambang bilangan

- a. Lima
- b. Enam
- c. Tujuh

II. Isilah titik-titik di bawah ini dengan jawaban yang benar !

1. Hitunglah berapa jumlah Bola Dunia dibawah ini!



.....

2.

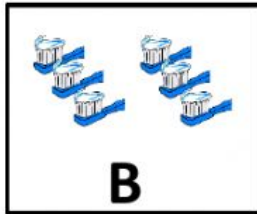
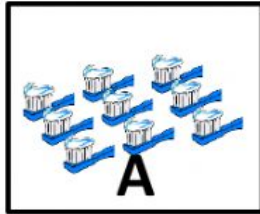


Urutkan bilangan dibawah ini dari yang terkecil:

3. Kakek membeli 14 Roti kemudian diberikan ke Cucunya 10 Roti.
Berapa Sisanya ...


$$\textcircled{14} - \textcircled{10} = \textcircled{\quad}$$

4.



Banyaknya sikat gigi pada
kotak A Kotak B

5. Lengkapi bilangan angka penjumlahan di bawah ini!



An addition problem using donuts as visual aids. On the left, there are 8 donuts arranged in two rows of four, with a horizontal line underneath. To the right of this is a plus sign. Further right are 3 donuts arranged in a triangle (two on top, one on bottom), with a horizontal line underneath. To the right of this is an equals sign. On the far right, there are 11 donuts arranged in three rows (4, 4, and 3 donuts respectively), with a horizontal line underneath.