


UNIDAD EDUCATIVA BENJAMÍN FRANKLIN  
MID TERM QUIZ - PRIMER QUIMESTRE



Name: \_\_\_\_\_ Date: 28 - 09 - 2020  
Subject: Matemàtica Teacher: Miss Ainee Olvera G.  
Course: Segundo de Bàsica

1. Arrastra los números al castillo y completa la familia del número 30.



31	32
33	34
35	36
37	38
39	

2. Revisa el cuadro y escribe los números de la familia del 30 de menor a mayor.

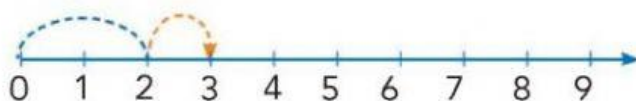
31	23	32	3
13	35	37	
34	17	39	

3. Cuenta los jugadores que están en la cancha y completa el problema de adición.



Jugadores del equipo amarillo	más	Jugadores del equipo morado	son	Jugadores de los equipos amarillo y morado
<div style="border: 1px solid black; width: 20px; height: 20px; display: inline-block; background-color: yellow;"></div> 3	+	<div style="border: 1px solid black; width: 20px; height: 20px; display: inline-block; background-color: purple;"></div>	=	<div style="border: 1px solid black; width: 20px; height: 20px; display: inline-block; background-color: yellow;"></div>

4. Observa las sumas en la semirrecta, luego resuélvelas en los casilleros correspondientes.



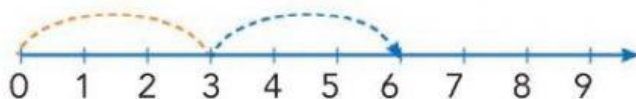
2

 + 
 

1

 = 
 

3



+ 
  =



+ 
  =

5. Selecciona la suma que representa el siguiente problema.

Juan, yo tengo 5 carritos.

Y yo tengo 4 aviones.

¡Juntamos nuestros juguetes!

4 + 4 = 8

5 + 4 = 9

5 + 3 = 8