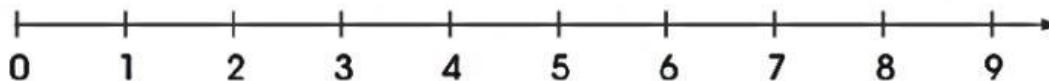


UNIDAD EDUCATIVA BENJAMÍN FRANKLIN
MID TERM QUIZ – PRIMER QUIMESTRE



Name: _____ Date: 25 - 09 - 2020
Subject: **Matemàtica** Teacher: Miss Ainee Olvera G.
Course: Segundo de Básica

1. Observa la semirrecta numérica y responde.

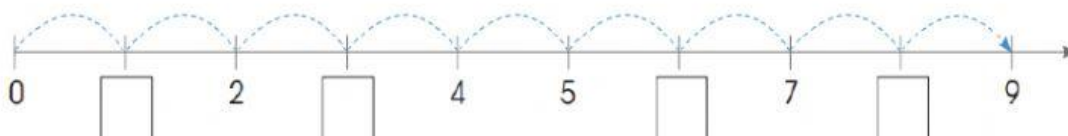


- a. El número sucesor de 5 es .
- b. El número sucesor de 2 es .
- c. El número antecesor de 9 es .
- d. El número antecesor de 8 es .


2. Escribe el numero anterior, entre o posterior según lo solicitado.

Anterior	Entre	Posterior
<input type="text"/> 18	14 <input type="text"/> 16	11 <input type="text"/>
<input type="text"/> 16	16 <input type="text"/> 18	13 <input type="text"/>
<input type="text"/> 14	11 <input type="text"/> 13	15 <input type="text"/>

3. Escribe los números que faltan en la semirrecta numérica.



4. Escribe los números en la semirrecta. Luego, cuenta los saltos que dio María y escribe el número en el cuadro.



5. Ordena los números de acuerdo con lo indicado.

De menor a mayor

7 1 4 9



<

<

<

De mayor a menor

2 9 6 5



>

>

>

6. Completa con los números que faltan en cada ejercicio.

$$7 > \bigcirc$$

$$\bigcirc < 8$$

$$63 = \bigcirc$$

$$\bigcirc < 12$$

$$\bigcirc > 52$$

$$\bigcirc = 6$$

$$19 < \bigcirc$$

$$\bigcirc = 48$$