




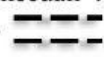


**PEMERINTAH DAERAH KOTA CIMAH
DINAS PENDIDIKAN
SEKOLAH DASAR NEGERI PADASUKA MANDIRI 4
PENILAIAN TENGAH SEMESTER (PTS) 1
TAHUN PELAJARAN 2020/2021**



MATA PELAJARAN	: SBDP	NAMA	:
KELAS	: VI (ENAM)	NISN	:
HARI/TANGGAL	:	NO ABSEN	:
WAKTU	: 60 MENIT		

KD 3.3

I. Tuliskan huruf *A, B, C, atau D* dengan memilih jawaban yang paling benar !

- Tari Saman merupakan tari tradisional yang berasal dari
A. Sumatra B. Sulawesi C. Jawa Barat D. Jakarta
- Tari jaipong dari Jawa Barat menggunakan pola tari . . .
A. Lurus B. Lurus dan melengkung C. lurus dan Zigzag D. zigzag
- Tari badong dari tana toraja Sulawesi selatan menggunakan pola tari
A. lurus B. melengkung C. zigzag D. Lingkaran
- Dibawah ini termasuk pola pola tari kecuali
A.  B.  C.  D. 
- Tarian yang menggunakan pola lantai garis melengkung membentuk lingkaran adalah tari
A. Tari sedati B. Tari Kecak C. Tari Jaipong D. Tari Badong

II. Isilah titik-titik di bawah ini dengan benar !

- Tari yamong berasal dari daaerah
- Asal mula tari Indang untuk keperluan
- Pola lantai dimana penari berbaris membentuk garis menyudut kekanan dan Kekiri
- Tari Indang berasal dari
- Tari indang dimainkan secara

III. Jawablah Pertanyaan di bawah ini !

- Sebutkan jenis-jenis pola lantai garis lengkung !
- Apa yang dimaksud dengan pola lantai ?