

ATIVIDADE DE CIÊNCIAS (CAPÍTULO 4)

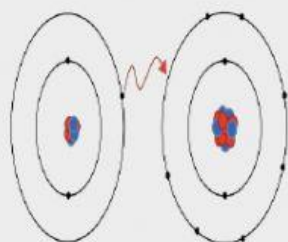
TURMA: 9º ANO

TEMA: Ligações químicas



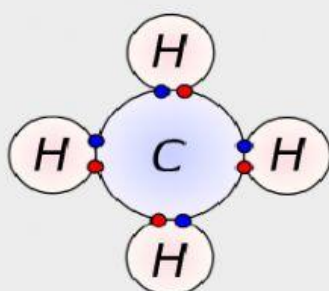
PROF: ORESTHY

1- Relacione a imagem ao tipo de ligação química



[Esta Foto](#) de Autor

**Ligação
covalente**

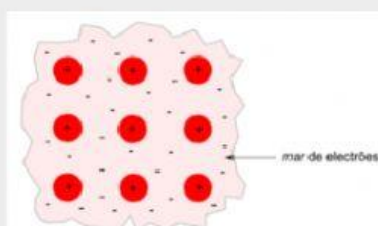


● Electrones del hidrógeno
● Electrones del carbono

[Esta Foto](#) de Autor

Desconhecido está licenciado

**Ligação
iônica**



[Esta Foto](#) de Autor Desconhecido
está licenciado em [CC BY-SA-NC](#)

**Ligação
metálica**

2- Arraste as respostas para seus devidos lugares em relação aos conceitos

