





Ms. Lorna



Observa el video. Resuelve las siguientes sumas

 $+$  $=$

 $+$  $=$

 $+$  $=$

 $+$  $=$

 $+$  $=$



Observa el video. Resuelve las siguientes restas

$$4 - 3 = \square$$

$$6 - 4 = \square$$

$$8 - 5 = \square$$

$$3 - 3 = \square$$

$$8 - 4 = \square$$

