

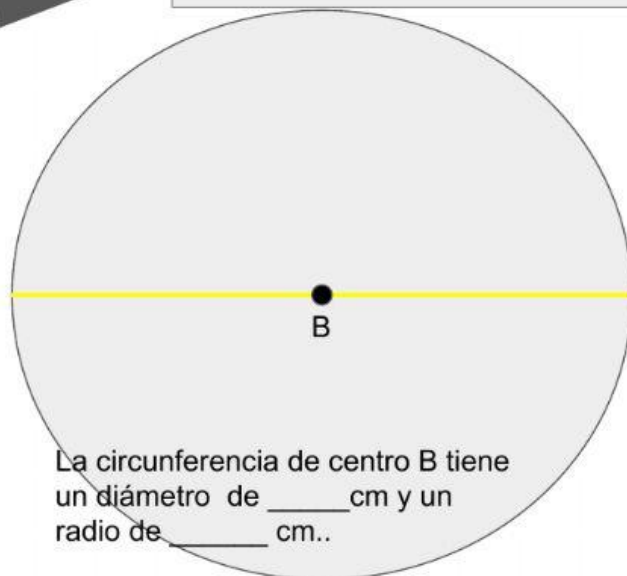
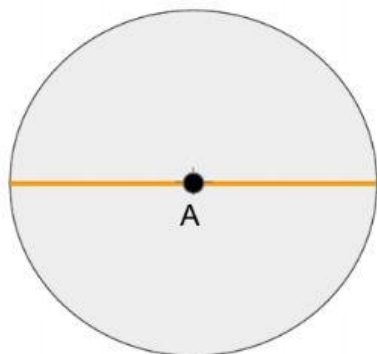


Tomo la regla y mido los datos pedidos en las circunferencias. Completo las frases

Al terminar de medir , apoya la regla aquí



La circunferencia de centro A tiene un radio de ____ cm.



La circunferencia de centro B tiene un diámetro de ____ cm y un radio de ____ cm..

La circunferencia de centro C tiene un diámetro de ____ cm.

