

Guía repaso perímetro, área y volumen

Para que el resultado salga correcto, sólo escribe el resultado total (sólo el número sin unidades de medida)

1. Calcula el perímetro y el área de cada figura



10 cm

4 cm

P=

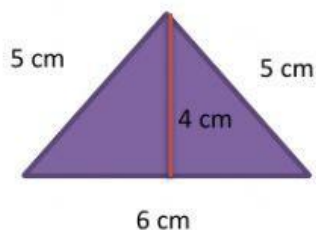
A=



7 m

P=

A=



5 cm

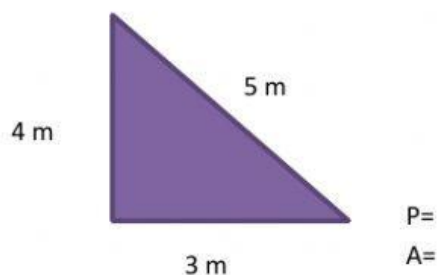
5 cm

4 cm

6 cm

P=

A=



4 m


5 m

3 m

P=

A=

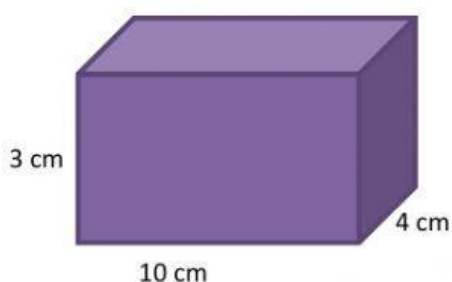
2. Calcula el área total y el volumen de los cuerpos geométricos.



8 cm

A=

V=



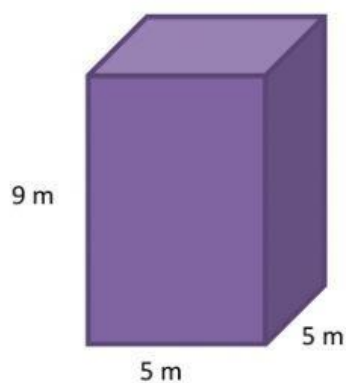
3 cm

4 cm

10 cm

A=

V=



9 m

5 m

5 m

A=

V=