






ATIVIDADE ONLINE

18/09/2020

ATIVIDADE DE MATEMÁTICA

1 - ARRASTE E COLOQUE OS NÚMEROS ORDINAIS NA ORDEM CRESCENTE DE ACORCO COM A ALTURA DE CADA CRIANÇA.

				
<input type="text"/>	<input type="text"/>	<input type="text"/>	<input type="text"/>	<input type="text"/>
2º	4º	1º	5º	3º

2- As crianças estão organizadas na fila corretamente se protegendo da Covid 19. Escreva o nome de cada uma no espaço correto.

<input type="text"/>	<input type="text"/>	<input type="text"/>	<input type="text"/>
----------------------	----------------------	----------------------	----------------------



- a) Clara é a quarta na fila.
- b) Matheus é o primeiro na fila.
- c) Sara segunda na fila
- d) Laura é terceira na fila.