

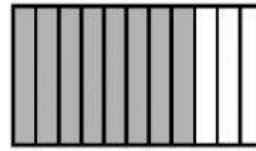



1 Escribe la fracción que representa la parte coloreada y contesta.









- ¿Qué fracción tiene el numerador menor? ¿Cómo se lee esta fracción?

- ¿Qué fracción tiene el denominador mayor? ¿Cómo se lee esta fracción?

1 Relaciona el número mixto con la fracción correspondiente.

$1 \frac{1}{2} \bullet$

$\bullet \frac{17}{5}$

$2 \frac{1}{3} \bullet$

$\bullet \frac{3}{2}$

$3 \frac{2}{5} \bullet$

$\bullet \frac{33}{8}$

$4 \frac{1}{8} \bullet$

$\bullet \frac{7}{3}$

2 Relaciona la fracción con el número mixto correspondiente.

$\frac{22}{3} \bullet$

$\bullet 7 \frac{1}{3}$

$\frac{11}{2} \bullet$

$\bullet 6 \frac{1}{4}$

$\frac{13}{6} \bullet$

$\bullet 2 \frac{1}{6}$

$\frac{25}{4} \bullet$

$\bullet 5 \frac{1}{2}$

1 Ordena y utiliza el signo adecuado.




De menor a mayor

$\bullet \frac{3}{8}, \frac{2}{8} \text{ y } \frac{4}{8}$

$\bullet \frac{7}{9}, \frac{8}{9} \text{ y } \frac{5}{9}$

$\bullet \frac{6}{10}, \frac{4}{10} \text{ y } \frac{8}{10}$



De mayor a menor

$\bullet \frac{5}{7}, \frac{5}{8} \text{ y } \frac{5}{6}$

$\bullet \frac{6}{7}, \frac{6}{9} \text{ y } \frac{6}{10}$

$\bullet \frac{8}{12}, \frac{8}{10} \text{ y } \frac{8}{11}$

1 Escribe en forma de fracción y de decimal.

• 2 décimas =

• 4 décimas =

• 8 décimas =

• 3 centésimas =

• 5 centésimas =

• 9 centésimas =

• 2 milésimas =

• 4 milésimas =

• 7 milésimas =

1 Completa la tabla.

Número decimal	Parte entera	Parte decimal	Lectura
3,9			
34,65			
			41 unidades y 94 centésimas
			3 unidades y 678 milésimas
8,063			
			126 unidades y 27 milésimas

2 Observa el ejemplo resuelto y descompón cada número decimal.

EJEMPLO: $28,134 = 2 \text{ D} + 8 \text{ U} + 1 \text{ d} + 3 \text{ c} + 4 \text{ m} = 20 + 8 + 0,1 + 0,03 + 0,004$

• 56,8 =

• 9,62 =


• 31,07 =

• 4,235 =


• 6,053 =

2 En cada caso, compara y marca.

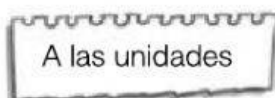
El número menor.



El número mayor.



1 Aproxima cada número al orden que se indica.



• 3,4 ►

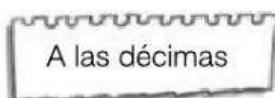
• 7,16 ►

• 1,678 ►

• 7,8 ►

• 4,84 ►

• 5,243 ►



• 4,21 ►

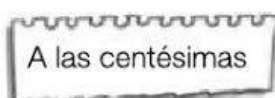
• 8,74 ►

• 3,674 ►

• 3,86 ►

• 5,29 ►

• 1,245 ►



• 4,892 ►

• 7,236 ►

• 0,743 ►

• 3,654 ►

• 8,137 ►

• 6,072 ►