

PEMERINTAH KABUPATEN LUWU TIMUR
DINAS PENDIDIKAN
SDN 264 WAWONDULA

Jl. Gunung Agung No. 01 Wawondula, Kec. Towuti

PENILAIAN TENGAH SEMESTER (PTS)

Tahun Pelajaran : 2020/2021

Kelas / Semester : 1 / 1	Nama :
Tema : 1 (Diriku)	Nomor Absen :
Waktu : 120 Menit	Tanggal : 21 September 2020

A.3,2/5

1. Sebelum berangkat ke sekolah, Siti memberi _____ kepada orang tuanya.



A.3,2/6

2. Yang dilakukan keluarga Siti sebelum makan adalah _____



A.3,2/6

- Setelah melukis, tangan dan kaki Udin kotor sekali.
Beri tanda ✓ pada gambar yang sesuai.



4. Kita semua memiliki perbedaan, tapi perbedaan itu harus kita ...

A.3,4/1

Mensyukuri Perbedaan



- A. syukuri
B. benci
C. hindari

5. Berdasarkan bacaan pada halaman 125, kesukaan anggota keluarga Beni berbeda-beda.

A.3,4/4

- Ibu senang membaca _____

6. Pasangkan nama-nama di bawah ini dengan huruf depan yang sesuai.

B.3,3/9

siti	•	•	b
beni	•	•	d
udin	•	•	e
dayu	•	•	l
edo	•	•	s
lani	•	•	u

B.3,9/4

7. Pada saat berkenalan, kita harus menyebut _____

B.3,4/4

Pasangkan nama-nama pancaindra dengan gambar yang sesuai.

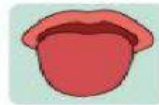
hidung

mata

telinga

kulit

lidah



B.3,4/5

- Salah satu cara merawat tubuh seperti gambar berikut adalah _____



B.3,2/6

- Berilah tanda ✓ pada posisi yang tepat saat menulis, memegang pensil dan cara duduk yang tepat pada gambar berikut.

Menulis dengan posisi duduk yang benar.

Memegang pensil yang benar.

Meletakkan buku dengan tepat.



11.

Susun huruf-huruf berikut menjadi kata yang tepat.

B.3,3/5

emnyiyan

↓

menyanyi

narok

↓

kn

ukub

↓

bu

12. Lagu berikut bercerita tentang seorang _____

B.3,11/7

Sahabat untuk Selamanya

Dua tiga kapal berlayar di samudra
 Ayo sahabatku kita bergembira
 Bermain bernyanyi bersama
 Menikmati indahnya dunia
 Sahabat...untuk selamanya
 Bersama untuk selamanya
 Kau dan aku sahabat
 Untuk selamanya
 Selama-lamanya.... setia

13. Temukan pasangan gambar yang sama banyak.

C.3,1/4

14. Hitunglah banyak benda berikut, kemudian tuliskan lambang bilangannya.

C.3,2/6

15. Pasangkan banyak jari dengan angka.

C.3,1/15

	<input type="radio"/> 1
	<input type="radio"/> 2
	<input type="radio"/> 3
	<input type="radio"/> 4
	<input type="radio"/> 5
	<input type="radio"/> 6
	<input checked="" type="radio"/> 7
	<input type="radio"/> 8
	<input type="radio"/> 9
	<input type="radio"/> 10

Beri tanda centang (✓) pada lambang bilangan yang sesuai.

 <input type="radio"/> 1 <input type="radio"/> 3 <input type="radio"/> 2	 <input type="radio"/> 4 <input type="radio"/> 5 <input type="radio"/> 6
 <input type="radio"/> 3 <input type="radio"/> 5 <input type="radio"/> 2	 <input type="radio"/> 7 <input type="radio"/> 6 <input type="radio"/> 9
 <input type="radio"/> 5 <input type="radio"/> 7 <input type="radio"/> 8	 <input type="radio"/> 4 <input type="radio"/> 6 <input type="radio"/> 8

16. Tuliskan lambang bilangan yang sesuai dengan namanya.

C.3,2/5

delapan	<input type="text" value="8"/>
tiga	<input type="text"/>
lima	<input type="text"/>
sepuluh	<input type="text"/>
enam	<input type="text"/>
satu	<input type="text"/>

17. Pilihlah kata "lebih dari" atau "kurang dari" untuk soal berikut.

C.3,3/8

1 _____ 5	5 _____ 7
4 _____ 2	8 _____ 10
3 _____ 4	9 _____ 7
6 _____ 8	6 _____ 9

18. Lengkapi urutan bilangan berikut.

C.3,3/6

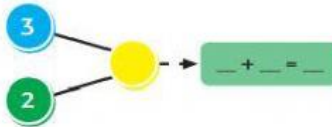
1. 2, 3, 4, , , 7, 8
2. 10, 9, , , 6, 5
3. 5, 6, 7, , , 10

19.

C.3,4/8



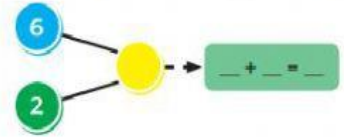
Di pohon pertama tumbuh 3 pepaya.
Di pohon yang kedua tumbuh 2 pepaya.



Banyak pepaya seluruhnya ada ____ buah.



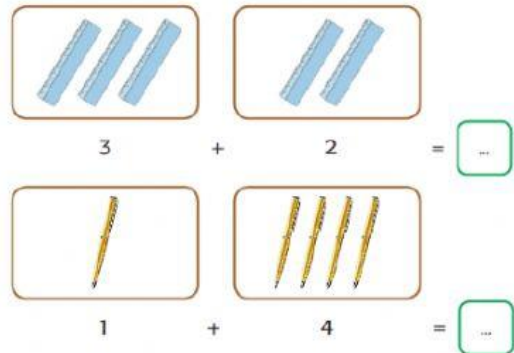
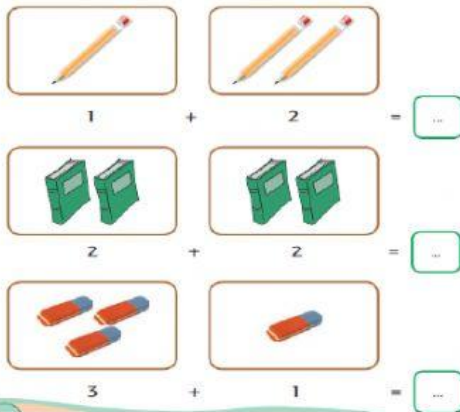
Edo menaruh 6 mangga dalam keranjang.
Di rumput masih ada 2 mangga.



Banyak mangga seluruhnya ada ____ buah

20. Hitunglah benda berikut dan tulislah hasilnya pada kotak yang tersedia.

C.3,4/5



21. Judul lagu berikut adalah _____

F.3,2/4

Siapa Namamu?

Ciptaan A.T. Mahmud

1	2	3	4	5	6	7	8	9	10
Sia	pa	kah	na	ma	mu				
5	4	3	2	1					
Na	ma	ku	Si	ti	(sebutkan namamu)				

F.3,3/6

22. Gambar berikut Lani dan teman-teman sedang _____



23. Gambar berikut adalah melukis dengan _____

F.3,1/4



24. Bahan alam yang digunakan untuk membuat kerajinan berikut adalah dari kulit _____

F.3,1/6



25. Gerakan yang dilakukan Lani dan teman-teman pada gambar berikut adalah mereka sedang ...

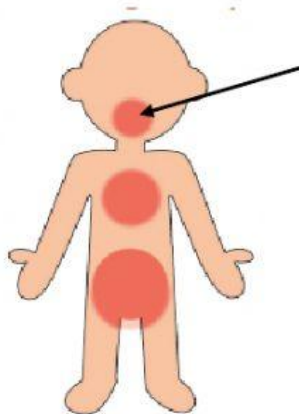
A'.3,1/1



- A. Berlari
- B. Berjalan
- C. berlomba

26. Amati gambar tubuh bagian depan berikut. Gambar yang diberi panah adalah bagian tubuh yang tidak boleh disentuh oleh orang lain. Bagian tubuh tersebut adalah _____

A'.3,8/5



27. Urutkanlah cara mencuci baju yang benar.

A'.3,8/5



28. Dalam meniti balok, tubuh kita harus _____

A'.3,4/8

