


Miércoles 15

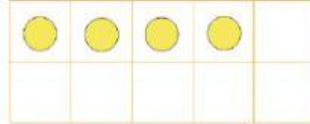
Escribe cada número de dos maneras.

Sigue el ejemplo.



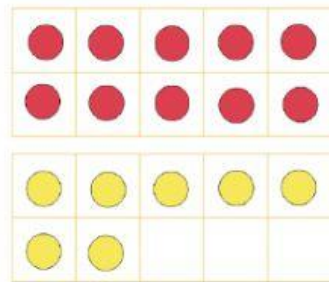
14 es 10 y 4

14 es 1 decena y 4 unidades.



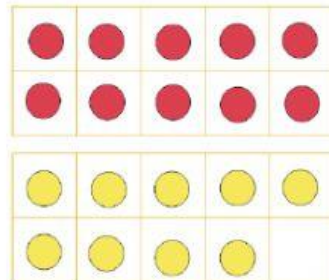
17 es _____ y _____

17 es _____ decena y _____ unidades.



19 es _____ y _____

19 es _____ decena y _____ unidades.



16 es _____ y _____

16 es _____ decena y _____ unidades.

