




## LECCIÓN DE MATEMÁTICAS

1. Unir con líneas el cuadrilátero con su nombre.



Rombo

trapecio

cuadrado


romboide

2. Coloca el nombre en el cuadro según corresponda la Clase de Triángulo.

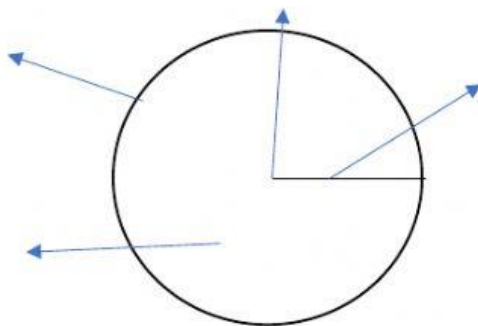
Escaleno

Equilátero

Isósceles



3. Ubica los elementos del círculo según corresponda.



Radio

círculo

circunferencia

centro