

EJERCICIO DE CIENCIAS NATURALES


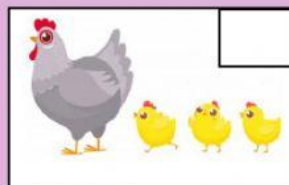
LA REPRODUCCIÓN DE LOS ANIMALES

I. Lee la siguiente lectura y llena los espacios correctamente.

Los animales son seres _____ y se clasifican en ovíparos que son los que nacen de un _____ y en vivíparos que nacen del vientre de su _____. También se clasifican en ovivíparos que se desarrollan _____ de un huevo que permanece dentro del _____ de la madre.


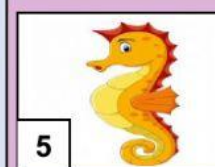



La gallina es un animal _____.

II. Ordena el ciclo de vida de la gallina con números del 1 al 4 escribiéndolos en el cuadro pequeño. Recuerda que la gallina nace, crece, se reproduce y muere.



III. Coloca los animales en orden numérico según como se clasifiquen en la siguiente columna.

ovíparos	vivíparos	ovivíparos
<div></div>	<div></div>	<div></div>
<div></div>	<div></div>	<div></div>



IV. Traza una línea y une la imagen con la etapa de los seres humanos que la identifica.



Infancia



Vejez



Niñez



Edad adulta