

MEDIDAS DE TIEMPO: LA HORA

Prueba tus conocimientos, selecciona con una X las medidas de tiempo que son utilizados por el hombre.



Comprueba tus conocimientos, relaciona con una flecha:

El día tiene (horas)	24 horas
La hora tiene (minutos)	12 meses
El minuto tiene (segundos)	7 días
La semana tiene (días)	365 días
El mes tiene (días)	60 minutos
La quincena tiene (días)	15 días
El año tiene (días)	60 segundos
El año tiene (meses)	30 días

Los días de la semana en quechua (relaciona con una flecha)

CASTELLANO	QUECHUA
LUNES	ATICHAW
MARTES	CH'ASKACHAW
MIERCOLES	INTICHAW
JUEVES	KILLACHAW
VIERNES	K'UYCHICHAW
SABADO	QUYLLURCHAW
DOMINGO	ILLAPACHAW

Los meses del año en quechua (completa los meses que indican).

QUECHUA	CASTELLANO
Qhaqmiy killa
Jatum puquy killa
Pacha puquy killa
Ariwaki killa
Aymuray killa
Jawk'aykuski killa
Chakraqunakuy killa
Chaqrayapuy killa
Tarpuy killa
Pawqarwara killa
Ayamarq'ay killa
Qhapaq intiraymi killa

¡Me preparo para un nuevo reto!

Indica con una flecha las partes del reloj.



Actividades de Juana por la mañana.

Se levanta



Desayuna



Sale de la casa



Llega a la escuela



a) ¿A qué hora se levanta en la mañana? _____


b) ¿A qué hora desayuna? _____

c) ¿A qué hora sale de la casa? _____

d) ¿A qué hora llega a la escuela? _____

¿Qué hora es?



















Relaciono con una flecha la hora correcta.



LAS OCHO
Y CINCO



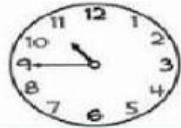
LAS ONCE
MENOS
CUARTO



LAS DOCE
MENOS
VENTICINCO




LAS TRES
Y MEDIA




LAS DIEZ
Y VEINTE


Dibuja las manecillas de cada reloj.




Las diez y cuarto.



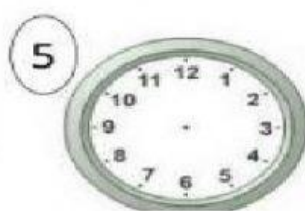
Las seis en
punto.




Las tres y media.




Las once en
punto.




Las ocho y
media.




Las doce y
cuarto.



Las cuatro y
media.



Las doce menos
cuarto.



La una menos
diez.