



Latihan Matematika Tema 2 Subtema 3 KD 3.6 "Bangun Datar"

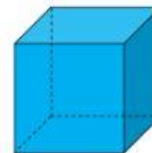

A. Berilah tanda () pada gambar-gambar yang termasuk balok !



B. Berilah tanda () pada gambar-gambar yang termasuk kubus !





C. Pasangkan benda sesuai bentuknya!

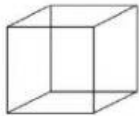


D. Perhatikan gambar di bawah ini!

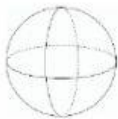
Silakan hitung ada berapa jumlah masing-masing bangun datar!



Jumlahnya ada



Jumlahnya ada



Jumlahnya ada



Jumlahnya ada