

ESCUELA DE EDUCACIÓN BÁSICA "EDUARDO KINGMAN"

eduardokingman13@hotmail.com
Sibambe # 510 y Ambato



ASIGNATURA: MATEMÁTICAS

AÑO BÁSICO: 2DO

NOMBRE: _____

FECHA: _____



EVALUACIÓN CORRESPONDIENTE AL SEGUNDO PARCIAL PRIMER QUIMESTRE

1.- Escriba si o no según corresponde (1 punto)

- La suma es aumentar o agregar elementos

si

no

- Los cuerpos geométricos se deslizan y ruedan

si

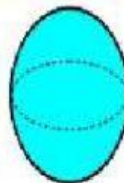
no

2.- Una con líneas los cuerpos geométricos según su característica (1.25 puntos)

Se deslizan

Se deslizan
y ruedan

Solo ruedan



3.- Cuenta, escribe y realiza las siguientes sumas (1 puntos)



$$\square + \square = \square$$

$$\begin{array}{r} + \\ 5100 \end{array}$$

4.- Arrastra y coloca el signo de mayor menor e igual que (1.50 Puntos)

$59 \bigcirc 34$

$28 \bigcirc 28$

$35 \bigcirc 46$

$95 \bigcirc 83$

$64 \bigcirc 67$

$14 \bigcirc 14$



5.- Completa la serie del 20 al 30 (1puntos)

| | | | | | | | | | |
|----|---|----|---|----|---|----|---|----|---|
| 20 | - | | - | 22 | - | | - | 24 | - |
| | - | 26 | - | | - | 28 | - | | - |
| 30 | - | | | | | | | | |

6.- Selecciona y busca la respuesta de los números que van antes y después. (2 puntos)

← 10 →

← 17 →

← 18 →

← 26 →

7- Une con líneas (1.25 puntos)

1

UNO

4

TRES

6

CUATRO

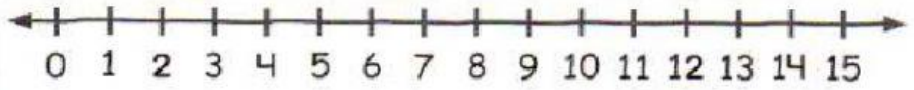

8

OCHO

3

SEIS

8., Realiza las siguientes sumas en la semirrecta (0.50 puntos)



9.- Dictado de números (0.50 puntos)