

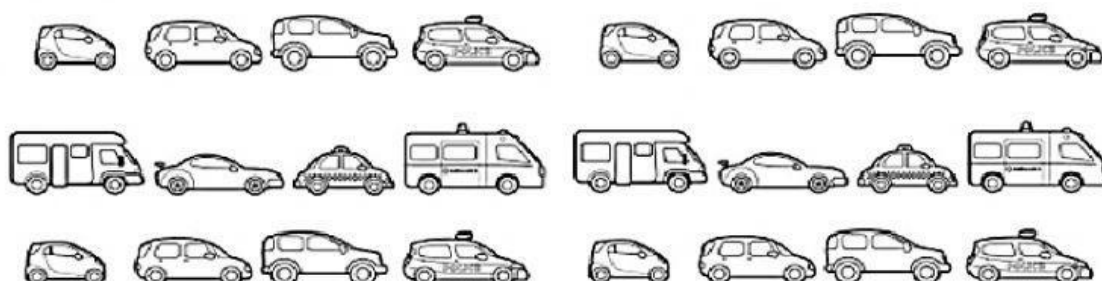
ADAPTACIÓN EN DIGITAL DE

EVALUACIÓN CENSAL REGIONAL DIAGNÓSTICA DE LIMA 2019

SEGUNDO GRADO

1

Lalo acomoda sus carritos:



Lalo quiere formar grupos de 10 carritos.

Cuenta y responde: **¿Cuántos grupos podrá formar?**

Ahora, marca ☒ la respuesta.

☐ a 3 grupos

☐ b 24 grupos

☐ c 2 grupos

☐ d 1 grupo

2

María tiene 6 muñecas y Lili tiene la mitad de muñecas que María:



Entonces, **¿cuántas muñecas tiene Lili?**

Marca ☒ la respuesta.

☐ a Tiene 6 muñecas

☐ b Tiene 3 muñecas

☐ c Tiene 2 muñecas

☐ d Tiene 5 muñecas

3

La suma de 34 y 20 es:

Marca ☒ la respuesta.

☐ a 54

☐ b 50

☐ c 14

---

4


Gustavo acomoda los objetos de la siguiente manera:



lápiz



borrador



libro



tajador

**¿Cuál será el objeto más pesado?**

Ahora, marca ☒ la respuesta.

☐ a El tajador

☐ b El borrador

☐ c El lápiz

☐ d El libro

- 5 Camilo guarda canicas en diversas cajas.  
**¿Cuál de las siguientes cajas tiene más canicas?**  
Ahora, responde marcando ☒ la respuesta:

- a ☐ 12 canicas
- b ☐ 17 canicas
- c ☐ 18 canicas
- d ☐ 15 canicas

- 6 Sustraer:

D	U
2	5
1	3

-

**¿Cuál es el resultado?**

Marca ☒ la respuesta.

- a ☐ 12
- b ☐ 38
- c ☐ 18
- d ☐ 32

7

Paolo se ha comprado esta pelota:



10 soles

¿Cuál de los siguientes grupos de monedas ha utilizado Paolo para comprarse la pelota?

Marca ☒ la respuesta.

a



b



c




d




8


Observa la cantidad de naranjas que tienen Lola, Pepe y Ana:



Lola



Pepe



Ana

¿Cuál es la afirmación correcta?

Marca ☒ la respuesta.

☐ a Pepe tiene más naranjas que sus dos amigos.

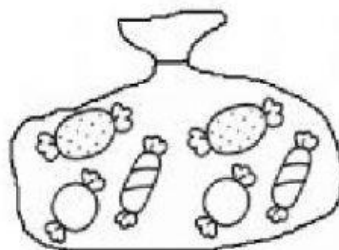
☐ b Lola tiene menos naranjas que sus dos amigos.

☐ c Todos tienen igual cantidad de naranjas

☐ d Ana tiene más naranjas que sus dos amigos.

9

Luis tiene 6 caramelos:



Si Carlos tiene el doble de caramelos que Luis.

**¿Cuántos caramelos tiene Carlos?**Marca ☒ la respuesta.☐ a 6 caramelos☐ b 3 caramelos☐ c 12 caramelos☐ d 8 caramelos

10

Pepe realiza muchas actividades durante la semana.

**¿En cuál de las siguientes actividades utiliza la mayor cantidad de tiempo?**Marca ☒ la respuesta.

a



c



b



d

