



## Seguimos aprendiendo

SEMANA 23

DIA 3

Lee los siguientes problemas y responde:


1.- La profesora de Educación Física quiere guardar las pelotas. ¿Cuántas cajas necesita la profesora para guardar dos pelotas en cada una?



¿Cuántas cajas de 3 hay?

¿cuántas cajas de 4 hay?

2.- Juan usó tapas de botellas para representar las pelotas:




¿Cuántos grupos de 2 ha formado?

¿Cuántos grupos de 3 se puede formar?

¿Cuántos grupos de 4 se forma?

¿Cuántos grupos de 6 se forma?

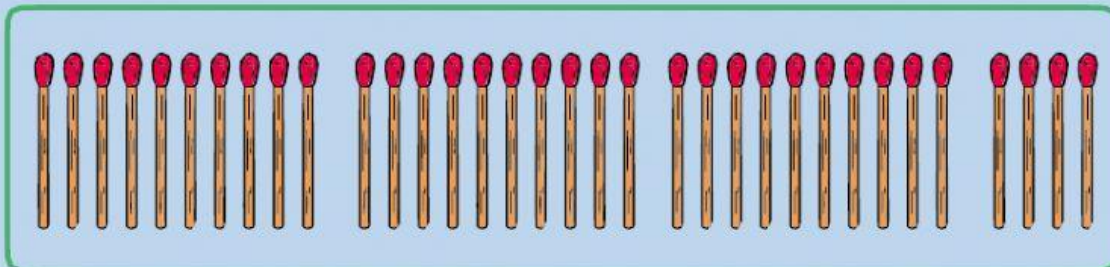
3.- Emma dibujó unas mariposas diurnas como las que vio cuando fue a su chacra en Tarapoto. Su primo quiere saber la cantidad de mariposas que dibujó.



¿Cuántos grupos de 10 se forma? Ubícalo en el tablero de valor posicional

D	U

4.- Raúl usó palitos de fósforo para representar las mariposas celestes



¿Cuántos grupos de 10 obtuvo? Ubícalo en el tablero de valor posicional

D	U

5.- Resuelve en tu cuaderno de matemáticas el siguiente problema y ubícalo en el tablero de valor posicional: María compró 12 manzanas y quiere saber ¿Cuántos grupos de 10 puede formar y cuántas unidades le quedan?