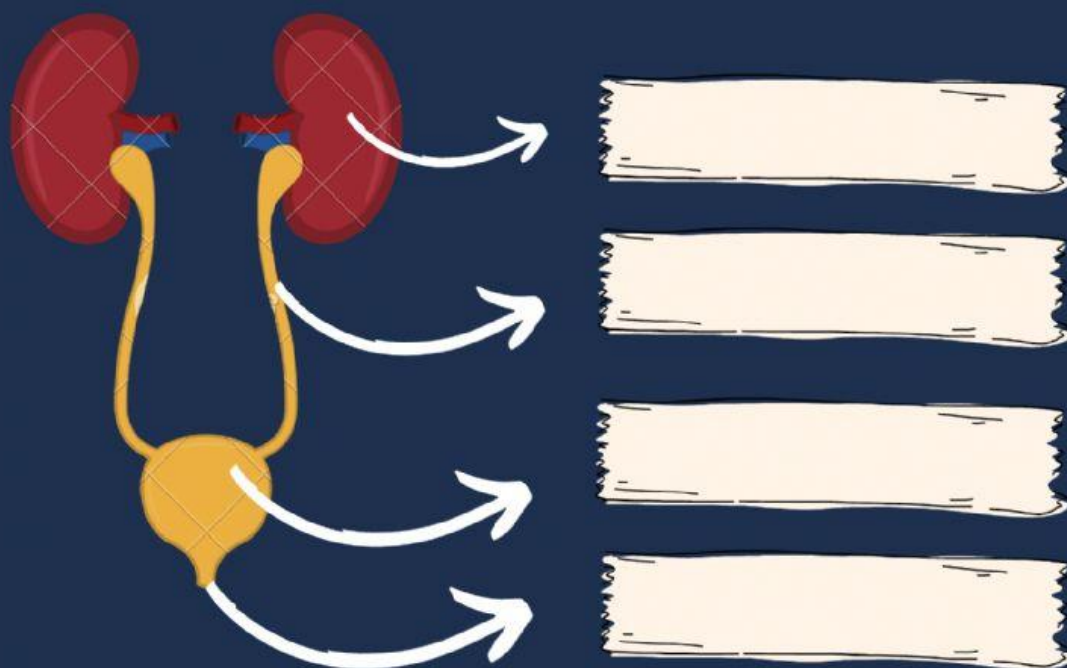



Nome: _____ Turma: _____

Sistemas do corpo humano

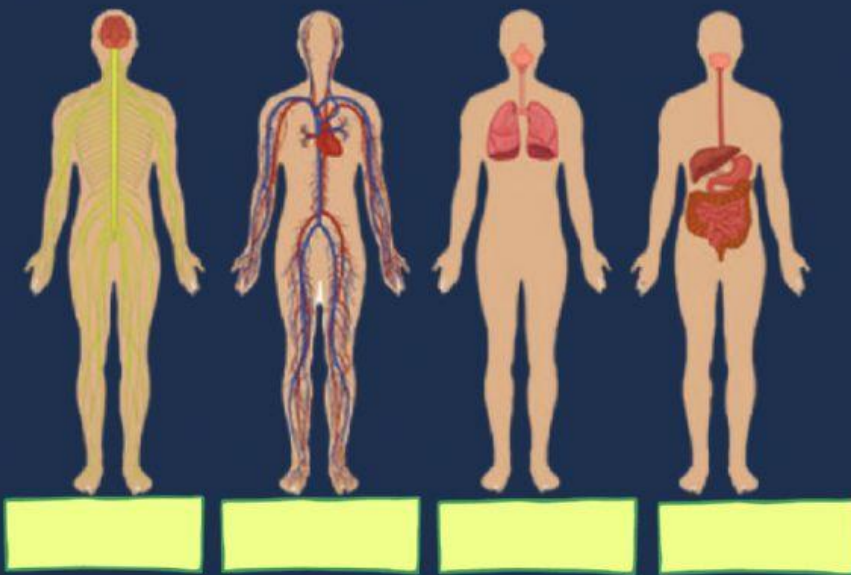
Escreva os nomes dos componentes do sistema urinário



Qual desses órgãos faz parte do sistema digestório?
Assine a resposta correta.



Arraste as palavras do quadro para os desenhos corretos.




Sistema
respiratório

Sistema
digestório

Sistema
cardiovascular

Sistema
nervoso

Resolva a cruzadinha



1. Sistema responsável em promover as trocas gasosas entre o corpo e o ambiente externo.

2. Sistema responsável por garantir o processamento do alimento que ingerimos, promovendo a absorção dos nutrientes

3. Sistema responsável circulação do sangue, de modo a transportar os nutrientes e o oxigênio por todo o corpo.

4. Sistema responsável por filtrar o sangue e eliminar resíduos do nosso corpo

6. Sistema responsável por captar as mensagens, estímulos do ambiente, "interpretá-los" e "arquivá-los".

6. Sistema responsável pela sustentação, locomoção e movimentação do corpo.