



LEMBARAM KERJA SISWA (LKS) SEMESTER GANJIL

SDN KARANG TENGAH 7

TAHUN PELAJARAN 2020/2021

Jl. Komplek Barata Raya Karang Tengah – Kota Tangerang

Nama :

Kelas : VI A (Enam)

Guru : SUHENDAR, S.Pd

Mata Pelajaran : Matematika

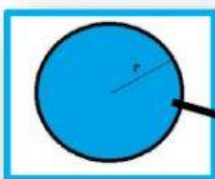
Materi Pembahasan : Unsur Lingkaran..

Hari/Tanggal :

Kerjakan Soal-Soal Berikut ini!

1. Hubungkan dengan garis pada jawaban yang benar :

a.



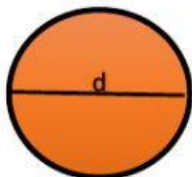
b.



c.

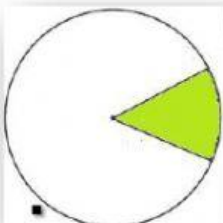


d.

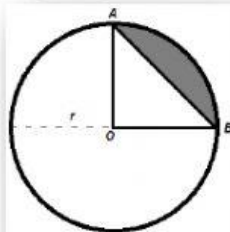


2. Pilihlah nama unsur lingkaran yang sesuai gambar bangun dibawah ini :

a.



b.



c.

