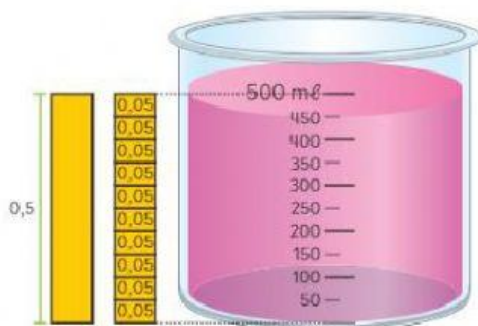


Volumen del champú =  ℓ



500 mL = 0,5 ℓ


1 ℓ = 1000 mL

El volumen  
del champú  
es 0,45 ℓ.



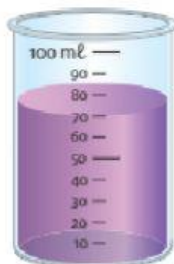
¿Qué volumen de agua contiene cada recipiente?

a)




El volumen de agua coloreada en este  
recipiente es  ℓ.

b)



El volumen de agua coloreada en este  
recipiente es  ℓ.

c)



El volumen de agua coloreada en este  
recipiente es  ℓ.