

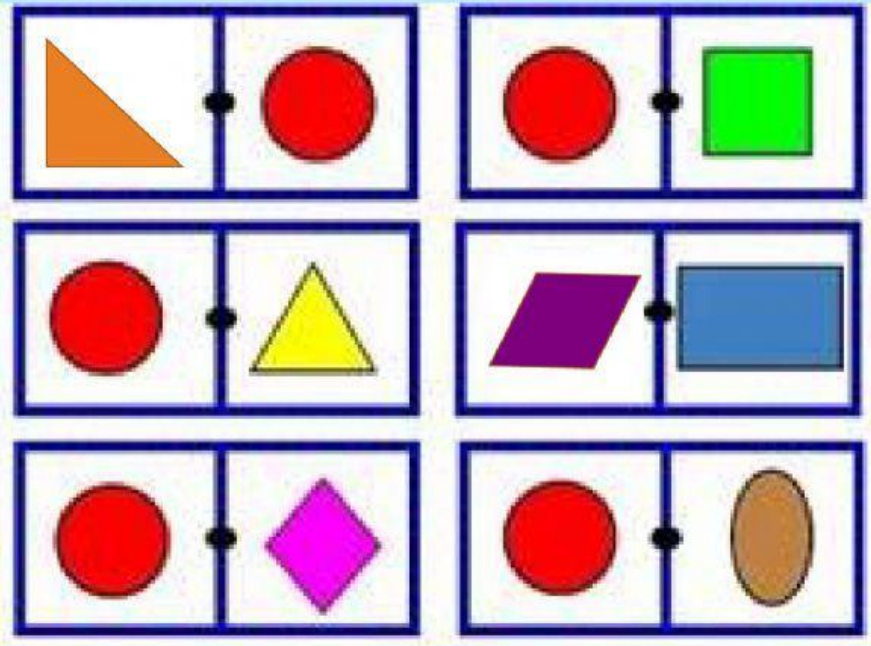
# Ficha didáctica de pensamiento matemático

## Figuras geométricas



# Vamos a conocer las figuras geométricas

Escoge todos los círculos



¿Cuántos son?

7

5

3

En esta imagen  
identifica todos los  
triángulos

¿cuántos encontraste? Da click en el número.






4

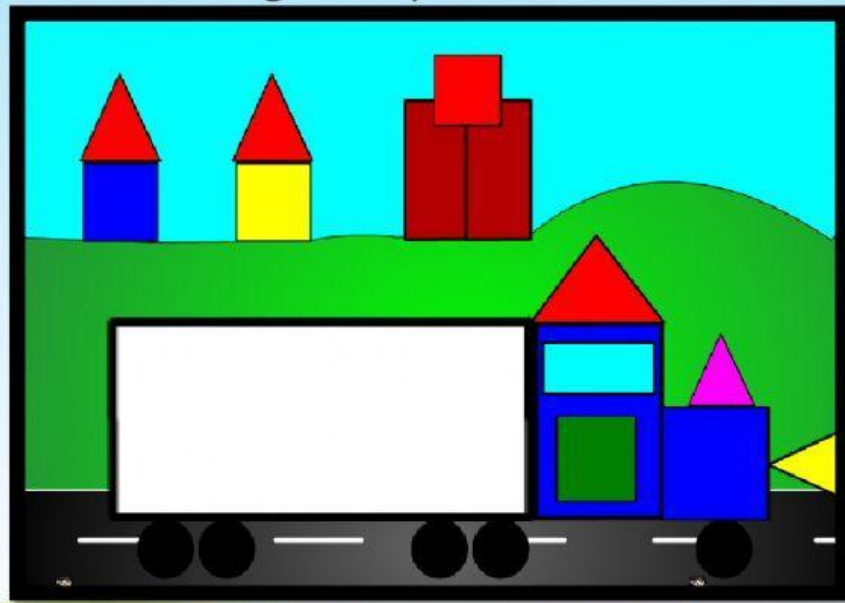
5



¿Recuerdas al pintor Picasso? Él pintaba con estilo cubista, le gustaba poner figuras geométricas en sus obras. ¿cuál de estas pinturas contiene algunas figuras geométricas?



Observa esta imagen, selecciona los triángulos y la cantidad.



1


2

3

4

5

Une los objetos con la figura geométrica que corresponda



Sigue trabajando con las figuras geométricas. Utiliza un tangram para que realices distintas figuras y ¿porqué no? Que te parece si realizas un dibujo en estilo cubista como el autorretrato que hiciste hace días, ¿te gustaría dibujar tu casa o algún paisaje?

