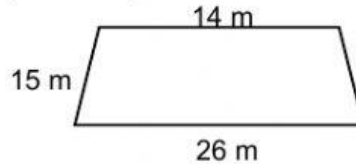


**PERÍMETRO****1. Halla el perímetro de cada figura y expresa en la unidad que se pide:**

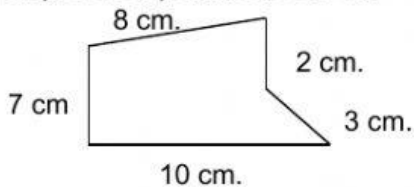
a) Expresa el perímetro en cm



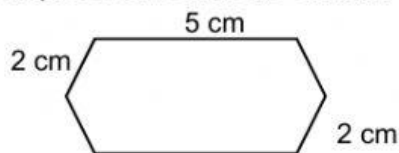
b) Expresa el perímetro en dm



c) Expresa el perímetro en dm



d) Expresa el perímetro en mm

**2. Resuelve los siguientes problemas en tu cuaderno.**

- Sara compró un espejo de forma cuadrada cuyo lado mide 43 dm ¿Cuál es su perímetro? Exprésalo en cm.
- El largo de un pedazo de tela de forma rectangular mide 20 m y su ancho 12 m . ¿Cuál es su perímetro?
- El perímetro de un triángulo equilátero es 57 cm. ¿Cuánto mide cada lado?
- El perímetro de un rectángulo es 78 cm. Su largo mide 26 cm ¿Cuánto mide el otro lado?