

La región selva

1. Relaciona la información de ambas columnas:

Es una zona de montañas
cubiertas de vegetación.

Selva alta

Es un territorio plano,
cubierto de bosques.

Amazonas

Es el río más caudaloso
del mundo.

Selva baja

2. Completa las oraciones según la información escuchada:

*En la Selva podemos encontrar una gran cantidad de
vegetación. Algunos árboles sirven como fuente de
madera. Por ejemplo: _____ y _____.*



*También se siembran algunos cultivos como el
_____ y el _____ que son exportados al
mundo.*







*Algunas frutas de la selva son: _____,
_____, _____, etc.*

3. Ordena las sílabas y descubre el nombre del animal de la selva. Luego completa el cuadro.

- CA – MA – GUA - YO

- GUAR– JA

- RA–ÑAS-PI

4. Escribe el nombre de los bailes que se realizan en la fiesta de San Juan.



5. Observa las imágenes y escribe el nombre de los platos típicos de la selva peruana.

