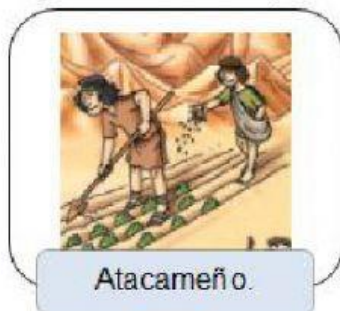


## Evaluación final Unidad 2 Historia, Geografía y Cs. Sociales


Habilidades cognitivas: Establecer relaciones entre el pasado y el presente, comparar diferentes modos de vida, localizar diferentes pueblos.

- I. Selección única. Marca con un ☒ la respuesta correcta. (1 punto cada 1, 10 puntos en total)

1. ¿Cuál de estos pueblos originarios fue nómada?



A



B



C

2. ¿Qué aspecto caracteriza mejor a un pueblo sedentario?

Vivían en un solo lugar.

A

Se trasladaban constantemente buscando alimentos.

B

Usaban vestimentas de piel de animales.

C

3. ¿Qué elemento de la imagen indica que este pueblo originario vivió en la Zona Austral de Chile?



Están cultivando.

A


Hay canales y montañas nevadas.

B

Tienen una vivienda.

C

Observa la imagen del pueblo chango y responde las preguntas 4 y 5.



4. ¿Cómo obtenía este pueblo la mayoría de sus alimentos?

Cultivos de frutas y verduras.

A

Pesca y recolección de mariscos.

B

Crianza de animales.

C

5. ¿Cómo se trasladaban frecuentemente?

En balsas de cuero de lobo marino.

A


Utilizando llamas y alpacas.

B

En balsas de madera.

C

6. ¿Cuál afirmación es correcta en relación con el pueblo mostrado?



A

Este pueblo es nómada y recolector.

B

Este pueblo es sedentario y recolector.

C

Este pueblo es sedentario y agricultor.

7. ¿A qué pueblo indígena actual pertenece esta tradición?

En el mes de febrero, este pueblo celebra el Tapati en la Isla de Pascua. En él se realizan diversas competencias, tales como navegación, pintura corporal, nado y artesanía.



Mapuche.

A

Rapa nui.

B

Aymara.

C

Lee el relato de Sarita, una niña kawésqar, y responde las preguntas 8 y 9.

“Nosotros antes vivíamos en una casa en el campo y todos jugábamos juntos. Pero luego nos vinimos a vivir a esta casa, en la ciudad. Echo de menos el campo. Acá en la ciudad no tengo amigos. Me aburro, no me junto con nadie, no me dejan salir a la calle, porque hay muchos autos y es peligroso. En el campo, me juntaba a jugar con los niños y las niñas. Éramos una familia grande, todos éramos kawésqar. Los kawésqar son de Puerto Edén. Allá vive mi abuela y mis tíos. Antes los kawésqar vivían en canoas, pero ahora no. Ahora vivimos en casas; algunos viven en el campo y otros en la ciudad”.

Relato rescatado del libro *Relatos y andanzas. Historias de niños y niñas de los pueblos originarios de Chile*. Recuperado de [unicef.cl](http://unicef.cl) (Adaptación).

8. ¿Por qué Sarita extraña el campo?

Porque en la ciudad no tiene amigos y se aburre.

A

Porque vivía en una canoa.

B

Porque había muchos autos.

C

9. ¿Cuál es el gran cambio vivido por el pueblo kawésqar?

Ahora todos viven en la ciudad.

A

Todos viven en el campo.

B

Antes vivían en canoas y ahora viven en casas.

C





10. ¿De dónde son los Kawésqar?

De la ciudad.

A

De Puerto Edén.

B

De Puerto Montt.

C

II. Une cada descripción con el nombre del pueblo al que se refiere. (2 puntos cada 1, 6 puntos en total)

Viven mayoritariamente de la agricultura y habitan en la zona norte del actual territorio chileno.

Mapuche

Su población se concentra en el centro y sur. Mantienen tradiciones como el **machitún** y el **nguillatún**.

Diaguita

Su población se concentra en Oceanía, en una isla frente a la zona norte. Son hábiles navegantes

Rapa nui



### III. Verdadero o falso

Escribe una V cuando la afirmación sea verdadera y una F cuando sea falsa. (1 punto cada 1, 10 puntos en total)

1. \_\_\_\_ El pueblo yagán habla el mapuzungún.
2. \_\_\_\_ Los changos habitaron la costa de la zona norte.
3. \_\_\_\_ Los pueblos sedentarios se dedicaban principalmente a la caza.
4. \_\_\_\_ Los pueblos sedentarios construían casas firmes y usaban tejidos para vestirse.
5. \_\_\_\_ El pueblo mapuche se encuentra formado por diferentes pueblos unidos por mismo idioma.
6. \_\_\_\_ Los pueblos originarios fueron los primeros habitantes del actual territorio chileno.
7. \_\_\_\_ La agricultura es la actividad en la que se recolectan mariscos y frutos.
8. \_\_\_\_ El actual territorio de Chile se encontraba habitado sólo por pueblos sedentarios.
9. \_\_\_\_ Los descendientes de los pueblos originarios no conservan ninguna tradición de sus ancestros.
10. \_\_\_\_ Los diaguitas habitaron la zona norte y destacaron por el desarrollo de la alfarería.

IV. Desliza cada elemento al cuadro que corresponda. (1 puntos cada 1, 4 puntos en total)

CASA NÓMADA

ARTÍCULO NÓMADA

CASA SEDENTARIO

ARTÍCULO SEDENTARIO

