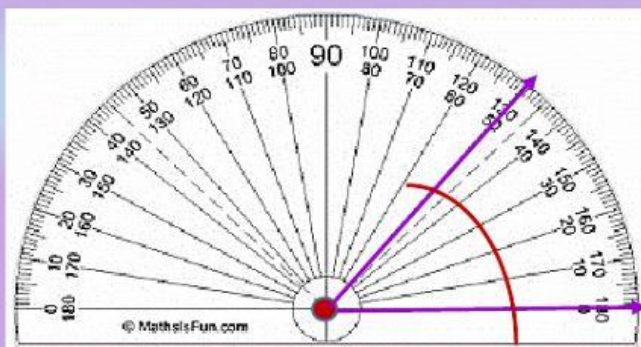


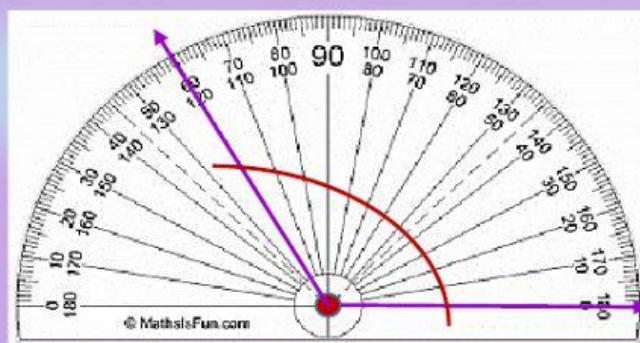
TEMA: ÁNGULO Y SUS CLASES

1. UNE CON LÍNEA SEGÚN CORRESPONDE.

Agudo		Mide más de 90°
recto		Es la apertura que mide 180°
obtuso		Mide menos de 90°
llano		Mide 90°

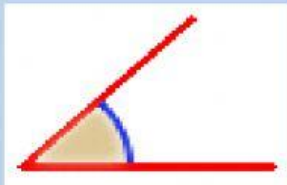
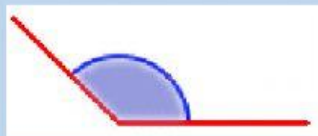
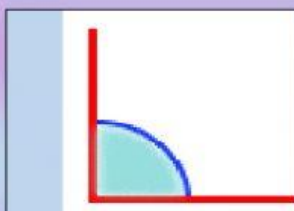
2. SELECCIONE LA MEDIDA DE LOS SIGUIENTES ÁNGULOS.





3. ARRASTRE Y UBIQUE EL NOMBRE DE LOS SIGUIENTES ÁNGULOS.

llano	agudo	recto	obtuso
-------	-------	-------	--------



4. OBSERVE CADA ÁNGULO Y MARQUE SI SU MEDIDA ES MAYOR O MENOR QUE 90° .



