

¡A **COMPLETAR**...MULTIPLICANDO!

RESOLVÉ ESTOS CÁLCULOS: (AYUDATE CON LAS TABLAS)



$10 \times 5 =$

$20 \times 5 =$

$30 \times 5 =$

$1.000 \times 2 =$

$300 \times 4 =$

$200 \times 7 =$



$100 \times 43 =$

$50 \times 4 =$



$4.000 \times 5 =$

COMPLETÁ LAS SIGUIENTES TABLAS

A) - EN LA VERDULERÍA QUIEREN ARMAR ESTA TABLA DE PRECIOS PARA SABER RÁPIDO CUÁNTO CUESTAN LAS CHAUCHAS SEGÚN LA CANTIDAD DE KILOS. AYUDALOS A TERMINARLA.

KG DE CHAUCHAS 	1	2	3	4
PRECIO 		\$ 16		

B) EL PAN PARA LOS SANDWICHS VIENE EN BOLSAS DE LA MISMA CANTIDAD DE PANES Y PARA COMPRARLO LOS PADRES HICIERON UNA TABLA PARA SABER CUÁNTO TENÍAN QUE PEDIR. AYUDALOS A COMPLETARLA

CANTIDAD DE BOLSAS 	1	3	10	20	30	100
CANTIDAD DE PANES POR BOLSA 	15	45				