

COMPASES

1. ¿Cuántos tiempos dura cada compas? Une con flechas

9
8

12
8

3 TIEMPOS

2 TIEMPOS




2. Completa estas sumas. Mirá este ejemplo:


$\text{♩} + \text{♩} = \boxed{4} \text{ tiempos}$

$d + d = \boxed{}$ tiempos

$\text{♩} + \text{♩} + \text{♪} = \square \text{ tiempos}$

$\text{♩} + \text{♩} + \text{♩} = \boxed{} \text{ tiempos}$

 +  +  = tiempos

 = tiempos

 = tiempos

3. Arrastra cada compás a su lugar correspondiente

6
8

12
8

9
8

Three musical staves are shown, each with an empty box for a note. The first staff has a box on the left and a box on the right. The second staff has a box on the left and a box on the right. The third staff has a box on the left and a box on the right.