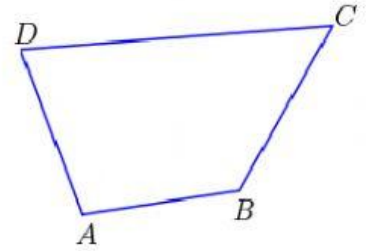


## Calculamos Perímetros

a) La siguiente figura es un cuadrilátero donde:

$$AB = 300\text{mm} \quad CD = 8 \text{ dm}$$

$$BC = 540\text{mm} \quad DA = 0,5\text{m}$$



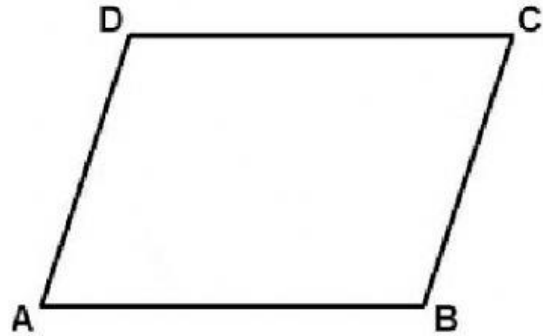
metros      decímetros      centímetros

Perímetro

b) El siguiente es un cuadrilátero que se llama \_\_\_\_\_

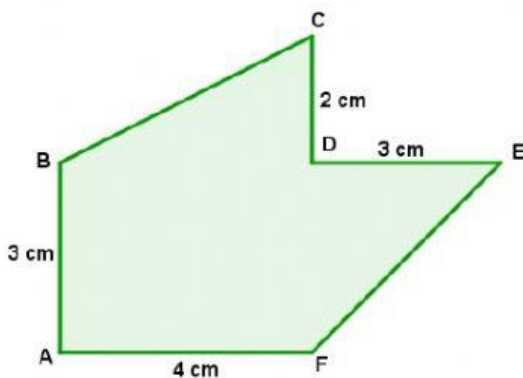
$$\text{Donde } AB = DC = 150 \text{ dm}$$

$$AD = BC = 8900\text{cm}$$



decímetros      centímetros      milímetros

Perímetro



c) La siguiente figura es un polígono de 6 lados, donde BC mide 0,05 m y EF mide 0,045 m

Calcula el perímetro en centímetros

Perímetro \_\_\_\_\_