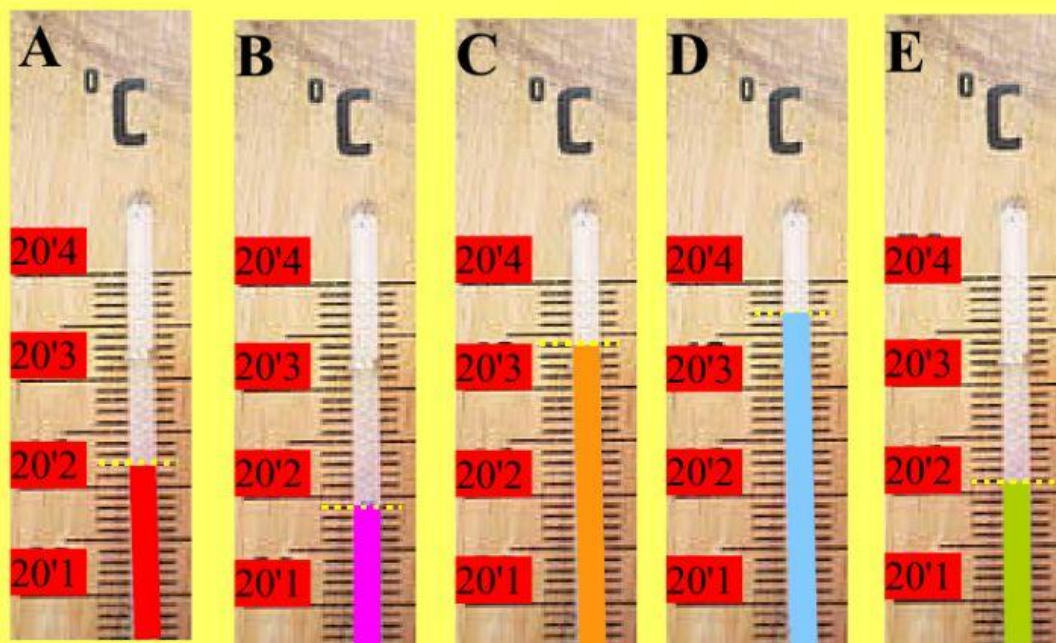




1. Observa aquests termòmetres i completa (empra l'apòstrof com a coma):



- a) El termòmetre A marca una temperatura de °C. Açò són graus i centèsimes.
- b) El termòmetre B marca una temperatura de °C. Açò són graus i centèsimes.
- c) El termòmetre C marca una temperatura de °C. Açò són graus i centèsimes.
- d) El termòmetre D marca una temperatura de °C. Açò són graus i centèsimes.
- e) El termòmetre E marca una temperatura de °C. Açò són graus i centèsimes.

**2. Escriu aquests nombres decimals emprant la coma:**

a) 7 unitats i 73 dècimes =

b) 4 desenes i 8 dècimes =

c) 52 centèsimes =


d) 6 centèsimes =

e) 4 centenars i 5 centèsimes =

f) 4 unitats i 3 centèsimes =

4. A cada dibuix hi ha 100 quadradets. Completa ara:


a)



* Com es llegeix aquest nombre?:

* Escriu-lo ara:


b)



* Com es llegeix aquest nombre?:

* Escriu-lo ara:


c)



* Com es llegeix aquest nombre?:

* Escriu-lo ara:

d)



* Com es llegeix aquest nombre?:

* Escriu-lo ara: