





# ¿Cantidades iguales? ¡Curioso pero sencillo!

- Coloca cantidades iguales y completa la suma. Haz clic sobre el personaje con el  así sabrás de que se trata.




A Dani le gustan los  de color **rosa**, mientras que a Daniel los  de color **amarillo**. Desliza los peces que le corresponde a cada uno.

**Dani**



**Daniel**



- Es hora de sacar nuestras ideas. Completa la suma:

$$\boxed{?} + \boxed{?} = \boxed{4}$$




## ¿Cantidades iguales? ¡Curioso pero sencillo!

- Coloca cantidades iguales y completa la suma. Haz clic sobre el personaje con el  así sabrás de que se trata.



Nando y Leti, están organizando sus libros, deben acomodar la misma cantidad de libros en la parte de abajo. Desliza la cantidad correspondiente.

Leti      Nando



- Es hora de sacar nuestras ideas. Completa la suma:

$$\boxed{?} + \boxed{?} = \boxed{16}$$