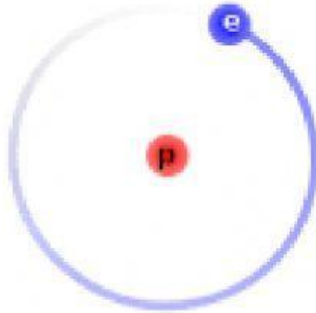


Nombre: _____ Número: _____ Curso: _____ Sección: _____


Arrastra el nombre de cada isótopo del hidrógeno, a la posición que le corresponde, según el dibujo del átomo de hidrógeno de más abajo:

DEUTERIO



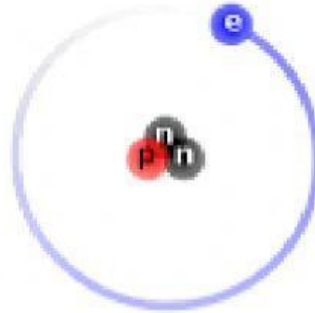
${}^1_1\text{H}$

TRITIO



${}^2_1\text{H}$

PROTIO



${}^3_1\text{H}$