





PROBLEMAS

EN UNA GRANJA HAY



Y



¿CUÁNTOS ANIMALES HAY EN TOTAL?

3 VACAS

4 ANIMALES

7 ANIMALES

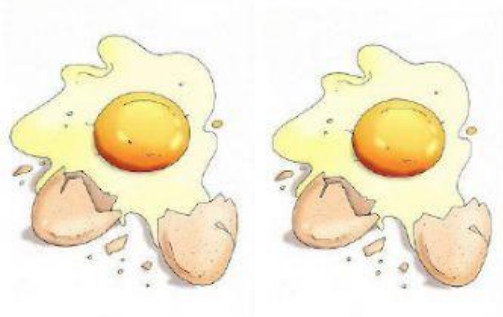
4 CABALLOS

7 GATOS

MARTA



Y SE LE CAYERON



¿CUÁNTOS



LE QUEDARON?

2 HUEVOS

1 HUEVO

6 HUEVOS

4 HUEVOS

3 HUEVOS