

Proyecto Evaluativo de ciencias

1. Arrastra y ordena cronológicamente el desarrollo de las plantas. (3 puntos)



1	2	3
---	---	---

2. ¿A qué tipo de **ambiente** pertenecen los siguientes animales? (4 puntos)



3. En la tierra hay diferentes tipos de ambientes, arrastre el nombre con su imagen correspondiente. (6 puntos)

Desierto


Mar

Bosque seco

Pastizal


Río

Bosque



4. Arrastra y clasifica los elementos de la naturaleza con vida y sin vida según corresponda. (7 puntos)

Elementos con vida




Sol

Microorganismo

Agua

Plantas

Elementos sin vida




Aire

Suelo

Hongos

5. **Arrastra y ordena** cronológicamente el **desarrollo** de los **insectos**. (4 puntos)



1	2	3	4

6. **Arrastra y ordena** cronológicamente el **desarrollo** de todos los seres vivos. (4 puntos)



1	2	3	4

7. Observemos el siguiente video sobre la vida de los peces. (5 puntos)



Elige las respuestas correctas de acuerdo a lo visto en clase y en el video anterior.

1. Los peces tienen el cuerpo cubierto de _____.
2. Los peces respiran por medio de _____.
3. Los peces según como nacen son _____.
4. Los peces viven en un ambiente _____.
5. Los peces como se desplazan en el agua _____.