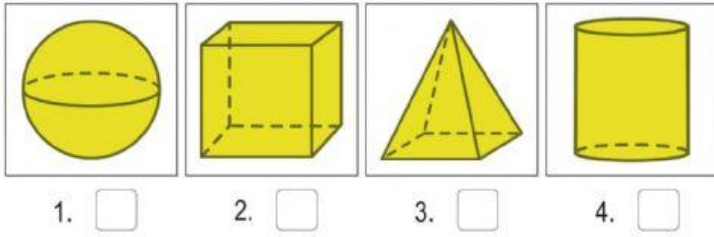
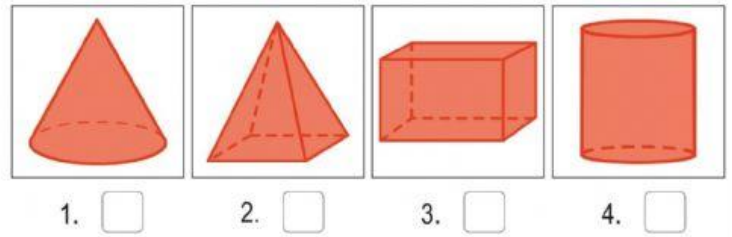


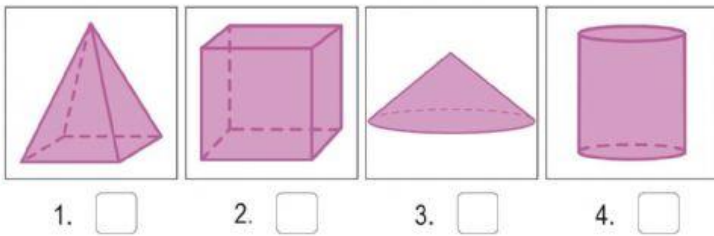
a. ¿Cuál de las siguientes figuras contiene ocho vértices?



b. ¿Cuál de las siguientes figuras tiene tres pares de caras paralelas?



c. ¿Cuál de las siguientes figuras tienen cinco caras?



d. ¿Cuál de las siguientes figuras no tiene caras planas?

