

ACTIVIDAD EVALUATIVA

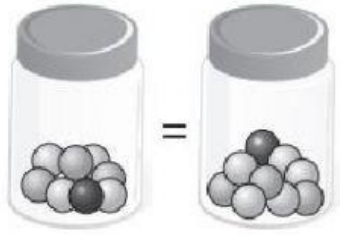
Nombre:

Fecha:

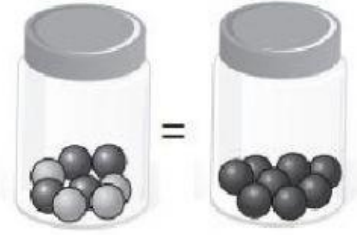
Realiza las siguientes actividades

1. ¿Cuál de las dos representaciones expresa una igualdad? Marca (X)

a.

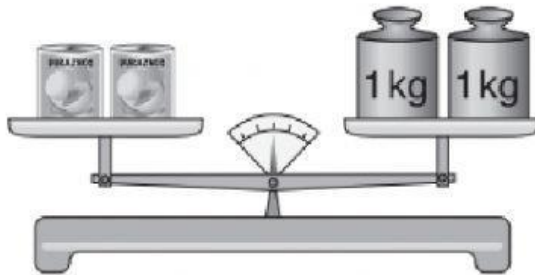


b.



2. Calcula la masa de cada conserva.

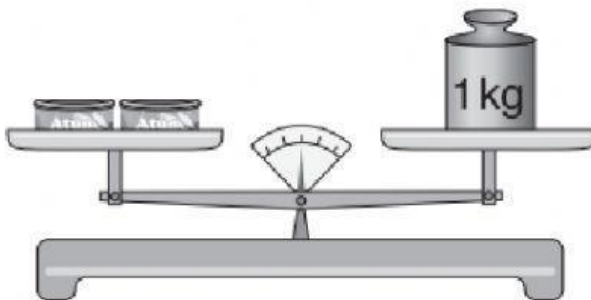
a.



Las conservas de durazno

pesan _____ Kg.

b.



Las conservas de atún

pesan _____ Kg.