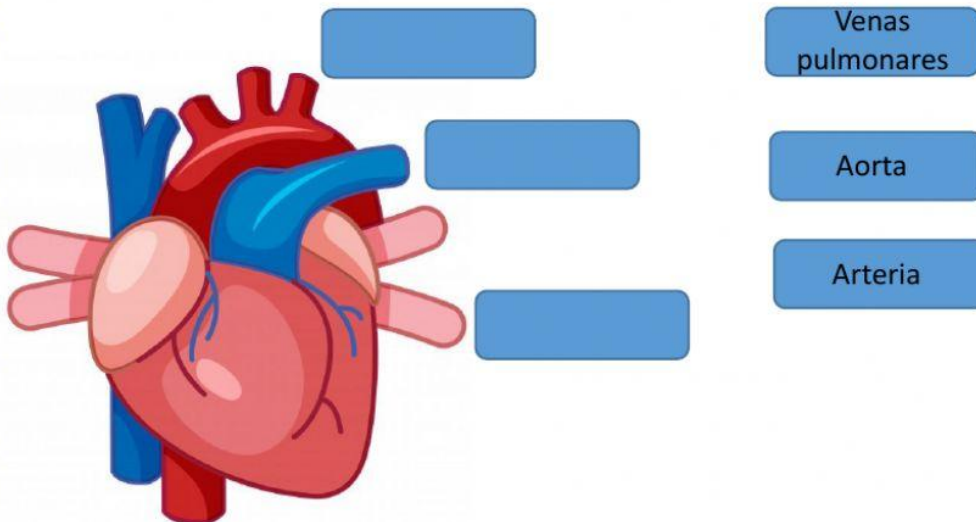




Bimestral grado primero

Nombre: _____

1. Todos los seres humanos tenemos varios Sistemas, cada uno de ellos cumple una función diferente. De acuerdo a lo anterior selecciona el Sistema que se encarga de transporte el oxígeno y los nutrientes por todo el cuerpo
 - a. Sistema digestivo
 - b. Sistema circulatorio
 - c. Sistema óseo.
2. arrastra las partes del corazón donde corresponda



3. Sara está algo confundida con la ubicación del corazón, ayúdala a descubrir la afirmación correcta seleccionando falso o verdadero.

- a. al lado de los pulmones
- b. encima del pulmón derecho
- c. entre los dos pulmones
- d. encima del pulmón izquierdo

4. El corazón realiza dos movimientos, el de relajar y contraer una según corresponda

Es cuando el corazón se llena de sangre

Relajar

Es cuando el corazón saca toda la sangre y la envía al resto del cuerpo

Contraer

5. Recuerdas que en clase dimos un dato curioso sobre el corazón. Este dato fue:

- a. El corazón está cubierto de metal para resistir golpes.
- b. El corazón es del tamaño del puño de la mano.
- c. El corazón es de color azul, aunque en los dibujos se ve rojo.

6. Los animales necesitan tres factores necesarios para poder vivir si uno de estos falta el animal moriría, ayuda a coco a saber cuales son estos tres factores

Alimentarse para crecer

Nadar para conocer el mundo

Estar cerca de otros animales para sobrevivir

Agua para hidratarse

Oxígeno para respirar



7. Teniendo en cuenta la forma de locomoción del animal, une según corresponda

Camina

Repta

Salta

Vuela

Nada



8. Lee las oraciones escoge una opción

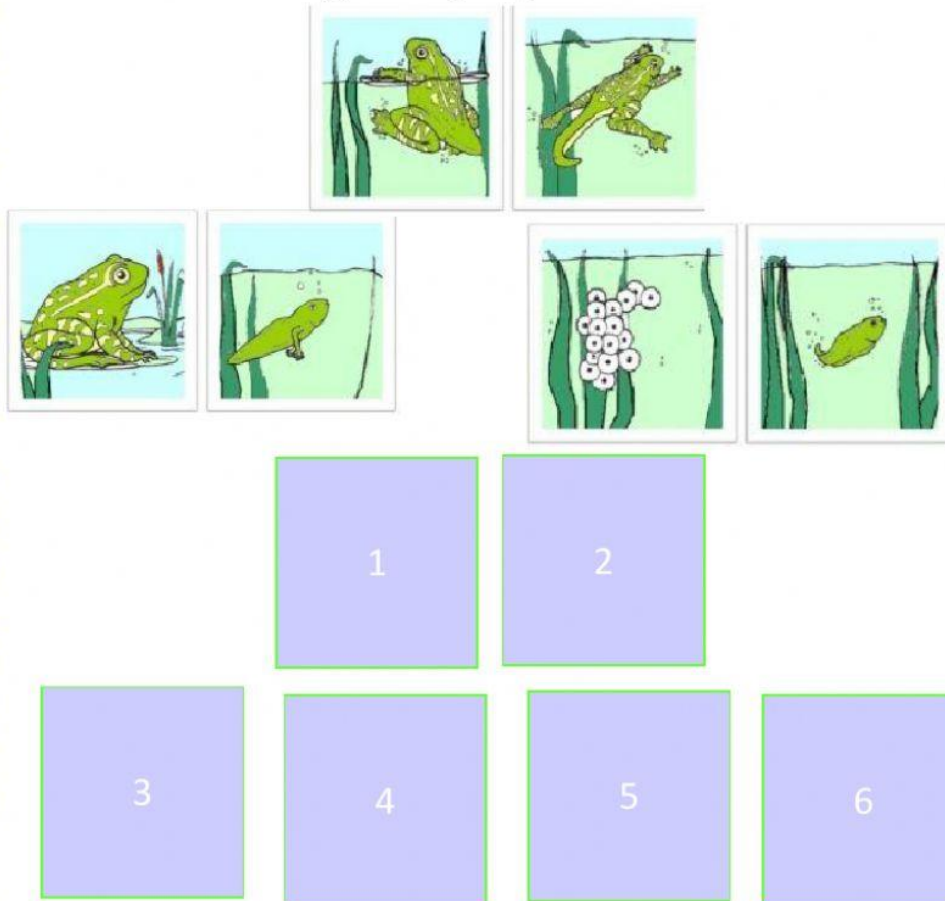
Respira por las branquias

Respira por los pulmones y la piel


Come algas y plantas

Como insectos


9. Observa las imágenes y organiza el ciclo de la rana



10. Observa las imágenes y organiza el ciclo de la mariposa



11. observa la imagen y completa la lectura



Esta etapa se llama _____,
aquí sus _____ se
formarán, y la duración es de
_____ semanas.

12. Lee y completa las oraciones

- ✓ Los animales vivíparos nacen del _____
- ✓ Los animales ovíparos nacen de _____

13. Observa los animales y arrastra según corresponda

Vivíparos	Ovíparos



14. Observa las imágenes y arrastra cada animal al lugar que corresponda

REPTILES

ARÁCNICOS

ANFIBIOS

--	--	--



15. Une según corresponda

El cuerpo de estos animales tiene tres partes: tórax, abdomen y patas

ANFIBIOS

Estos animales son ovíparos, respiran por medio de branquias y tienen una piel desnuda

REPTILES

Muchos de estos animales viven en la tierra, son vertebrados y ovíparos

ARÁCNICOS