

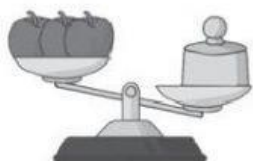
ACTIVIDAD EVALUATIVA

Nombre:

Fecha:

1. Observa las imágenes y responde:

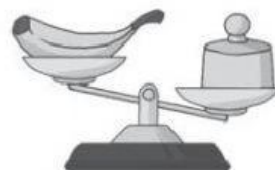
a)



b)



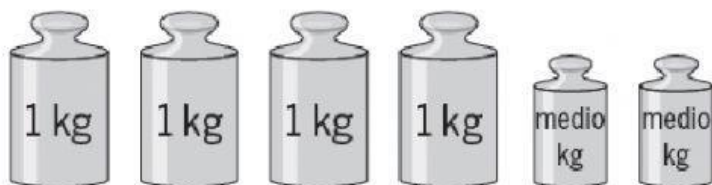
c)



- ¿Qué productos tienen una masa mayor a 1 kilo?
- ¿Cuáles tienen una masa menor a 1 kilo?

2. Calcula y expresa la masa total en cada caso.

a)



b)

