

SERIES NUMERICAS



La regla de formación es _____



La regla de formación es _____

2. Relaciona cada sucesión de números con su regla de formación.

3; 4; 6; 9; 13; 18...

180; 150; 120; 90...

320; 330; 325; 335; 330...

22; 24; 28; 34; 42...



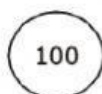

sumo 2; 4; 6; 8... al número anterior

sumo 10 y resto 5


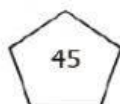
sumo 1; 2; 3; 4; 5 al número anterior

resto 30 al número anterior

3. Completa la sucesión y su regla de formación.



La regla de formación es: sumo _____ y resto _____.



La regla de formación es: resto _____ y sumo _____.