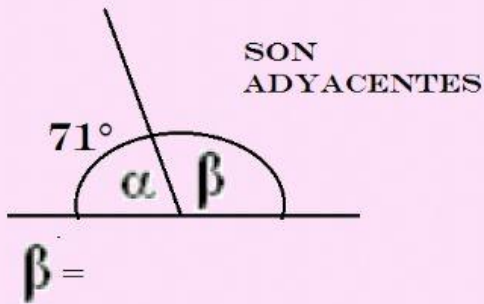



ÁNGULOS

1_ CONSIDERANDO LOS DATOS PRESENTADOS, CALCULA LA MEDIDA DEL ÁNGULO QUE FALTA:

A)



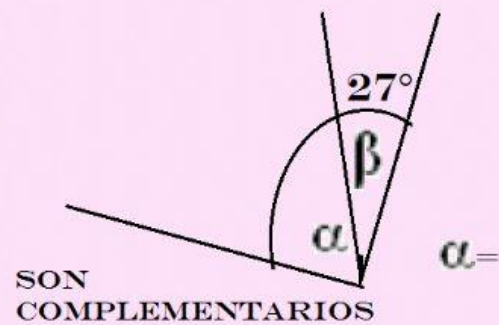
B)



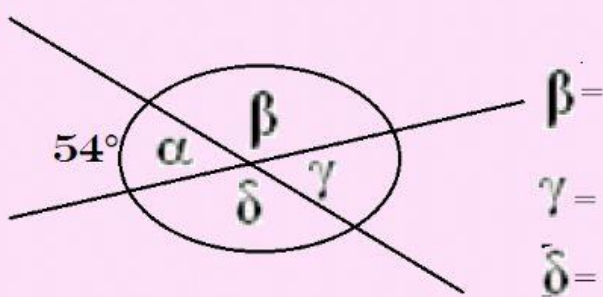
D)



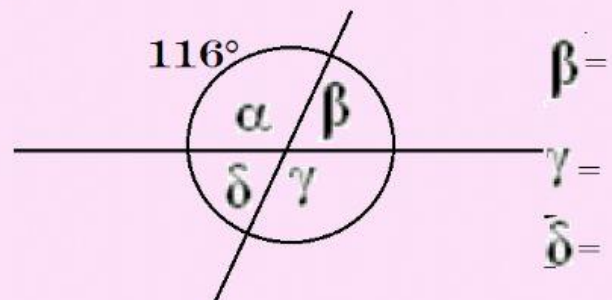
E)



F)



F)



2_ COMPLETA:

- A) SI TENGO UN ÁNGULO AGUDO, EL OPUESTO POR EL VÉRTICE ES:
- B) SI TENGO DOS ÁNGULOS ADYACENTES Y UNO DE ELLOS ES OBTUSO, EL OTRO TIENE QUE SER:
- C) SI TENGO DOS ÁNGULOS ADYACENTES Y UNO DE ELLOS ES RECTO, EL OTRO TIENE QUE SER:
- D) SI TENGO DOS ÁNGULOS COMPLEMENTARIOS Y UNO DE ELLOS ES AGUDO, EL OTRO TIENE QUE SER:
- E) SI TENGO DOS ÁNGULOS SUPLEMENTARIOS Y UNO DE ELLOS ES OBTUSO, EL OTRO TIENE QUE SER: