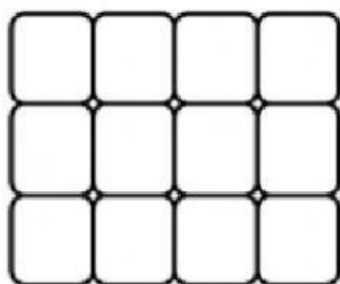


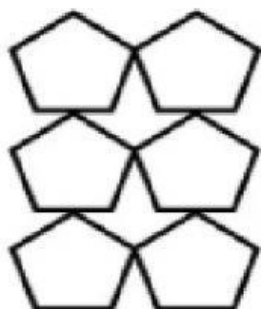
Usando matrices para encontrar la multiplicación y sus factores




Escriba el enunciado de multiplicación que representan las siguientes figuras



_____ **Hileras de** _____ = _____
_____ **X** _____ = _____



_____ **Hileras de** _____ = _____
_____ **X** _____ = _____



_____ **Hileras de** _____ = _____
_____ **X** _____ = _____