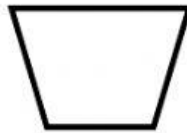




Práctica

1. Coloca cada línea en el lugar correspondiente.

Línea recta	Línea curva	Línea mixta	Línea quebrada	Línea cerrada



2. Lee o escucha la adivinanza y arrastra la figura geométrica que corresponde con la descripción.

<p>Tengo más de 3 lados, pero menos de 6 y todos mis lados del mismo tamaño son. Dime, dime quién soy.</p>	<p>Si quieres saber mis lados, te diré que no son 4, tengo tan solo 3. Y si quieres saber mis vértices te diré que son también 3. ¿Sabes bien quién soy?</p>	<p>Soy alto, larguirucho y alargado. Y aunque tengo 4 lados, no soy un cuadrado. ¿Quién soy?</p>	<p>No soy triangular, tampoco soy cuadrado, no soy rectangular, el cuerpo lo tengo curvado. ¿Ya sabes quién soy?</p>
			