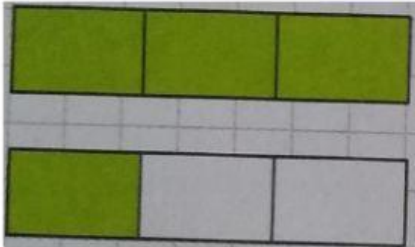



## Fracciones repaso

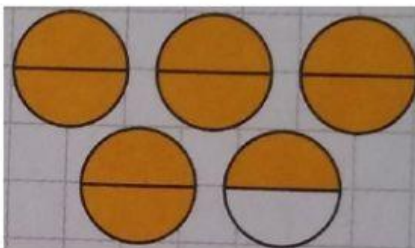
1- Indico qué fracción es:



$$\frac{\square}{\square}$$



$$\frac{\square}{\square}$$



$$\frac{\square}{\square}$$



$$\frac{\square}{\square}$$



2- Ubico las siguientes fracciones en la recta numérica:  $\frac{8}{4}$ ;  $\frac{3}{2}$ ;  $\frac{1}{4}$ ;  $\frac{5}{2}$

