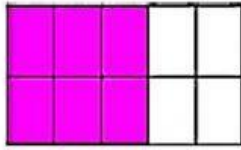


PRÁCTICA CALIFICADA: CLASIFICACIÓN DE FRACCIONES

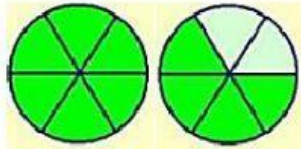
Relaciona correctamente



$$\frac{6}{10}$$



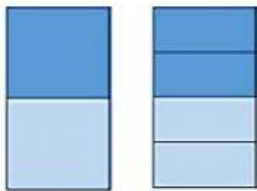
FRACCIÓN IMPROPIA



$$1\frac{4}{6}$$




FRACCIÓN EQUIVALENTE



$$\frac{1}{2} = \frac{2}{4}$$



FRACCIÓN PROPIA



$$\frac{8}{4}$$



FRACCIÓN MIXTA

Arrastra y coloca las fracciones propias e impropias donde corresponde

FRACCIONES

PROPIAS

$\frac{6}{5}$

$\frac{2}{3}$

$\frac{4}{3}$

$\frac{2}{5}$

$\frac{8}{6}$

$\frac{4}{8}$

$\frac{1}{2}$

$\frac{9}{3}$

FRACCIONES

IMPROPIAS

Selecciona los cuadritos para representar las fracciones mixtas.

$1\frac{1}{6}$



--	--	--	--	--	--

--	--	--	--	--	--

$2\frac{1}{2}$



--	--

--	--

--	--

$2\frac{4}{4}$



--	--	--	--

--	--	--	--

--	--	--	--

$2\frac{1}{5}$



--	--	--	--	--

--	--	--	--	--

--	--	--	--	--


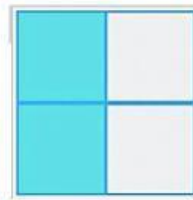
Escribe el número que falta para que las fracciones sean equivalentes.



$\frac{1}{2}$





$\frac{2}{\boxed{}}$



$\frac{2}{4}$



$\frac{\boxed{}}{8}$



$\frac{2}{4}$



$\frac{8}{\boxed{}}$

