



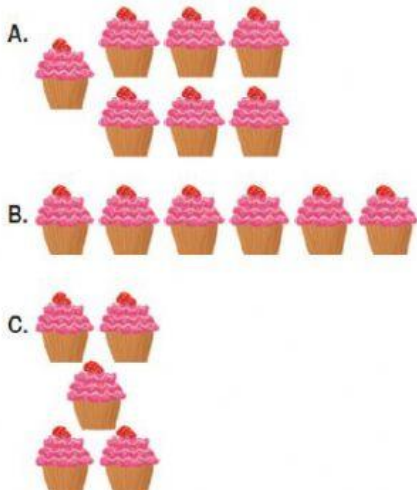
# Evaluación de contenidos

## Matemática

Nombre: \_\_\_\_\_

### I. Marca la alternativa correcta.

1. ¿Qué imagen representa al número 6?

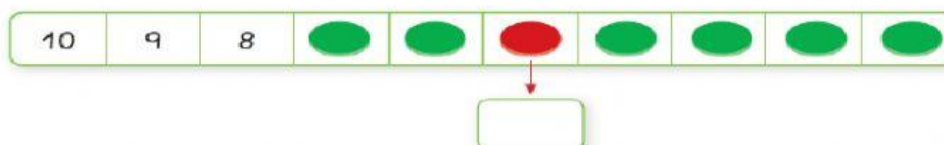


2. ¿Cuál es el número que representa la imagen?




- A. 40  
B. 30  
C. 20

3. ¿Qué número corresponde al  ?




- A. 5  
B. 4  
C. 3

4. ¿Cuáles son los números que faltan?



- A. 2 y 4  
B. 5 y 7  
C. 5 y 8

5. ¿A qué número llega la niña?







- A. 8
- B. 9
- C. 10

6. ¿En qué grupo hay más motos?



- A. Grupo 1
- B. Grupo 2
- C. Grupo 3

7. ¿Qué imagen representa la menor cantidad de ?

- A. 
- B. 
- C. 

8. ¿Qué posición tiene la cebra?



9. ¿En qué lugar está el conejo al observar la imagen de izquierda a derecha?



- A. 5°
- B. 6°
- C. 10°

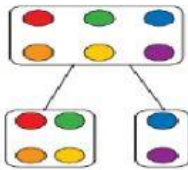
10. ¿Cuántos niños participaron de la carrera?



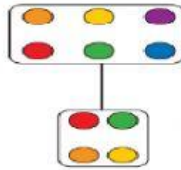
- A. 7
- B. 8
- C. 9

11. ¿Qué representación es correcta?

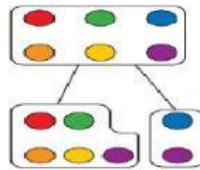
A.



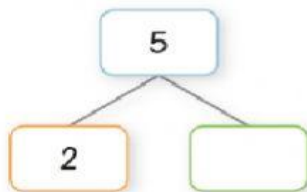
B.



C.



12. ¿Cuál es el número que falta?



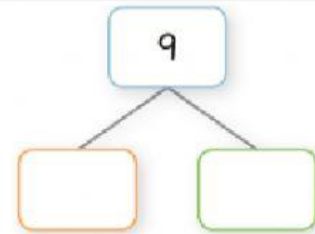
- A. 5
- B. 4
- C. 3







13. ¿Qué alternativa corresponde a lo que muestra la niña?



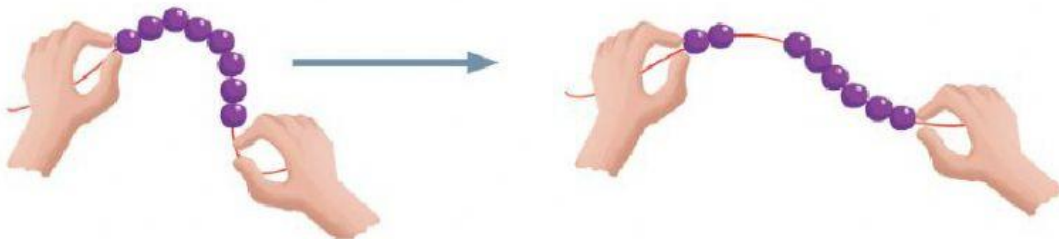
- A. 6 y 4
- B. 5 y 5
- C. 7 y 3

14. ¿Cuál es la descomposición correcta del número 9?



- A. 4  y 5  .
- B. 3  y 6  .
- C. 5  y 4  .

15. ¿Qué número y descomposición se representa?



- A. 8 está formado por 4 y 4.
- B. 8 está formado por 6 y 2.
- C. 8 está formado por 2 y 6.

16. ¿Cuántos patos hay en total dentro y fuera de la laguna?



- A. 5
- B. 7
- C. 9

17. ¿Cuántas manzanas tienen ambos niños?



- A. 9
- B. 8
- C. 7



18. ¿Qué adición representa la imagen?



A.  $6 + 1$

B.  $4 + 3$

C.  $5 + 2$

19. ¿Cuántos estudiantes van en el bus?




A. 6

B. 8

C. 10

20. ¿Qué sustracción corresponde a la imagen presentada?



A.  $4 - 3$

B.  $7 - 4$

C.  $7 - 3$

21. Observa y responde. (3 puntos)



- Estoy en el número \_\_\_\_\_

- Avanzo \_\_\_\_\_

- Llego al número \_\_\_\_\_

22. Observa y responde. (3 puntos)



- Estoy en el número \_\_\_\_\_

- Retrocedo \_\_\_\_\_

- Llego al número \_\_\_\_\_