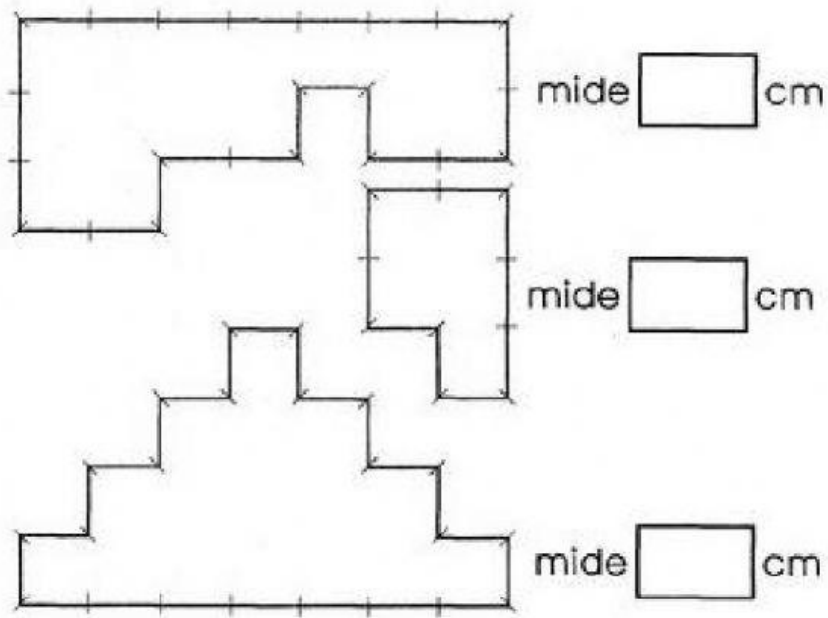


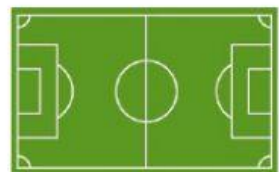


Perímetro y Área

Calcula el perímetro de cada figura. Supo que la medida del lado de cada cuadrado es de 1 cm.



Relaciona con una línea la unidad de medida más adecuada para medir las siguientes superficies.



cm.²


m.²

Calcula el área de cada figura.



2 cm.

Área= _____



4 cm.

Área= _____



3 cm.

9 cm.

Área= _____




3 cm.

6 cm.

Área= _____

Observa la medida del lado del cuadrado y calcula.



8 cm.

