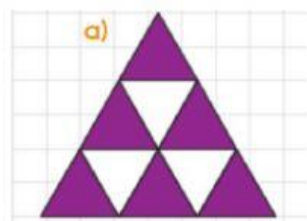


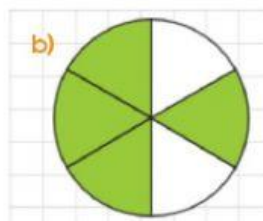
### Ejercitación de repaso sobre Fracciones

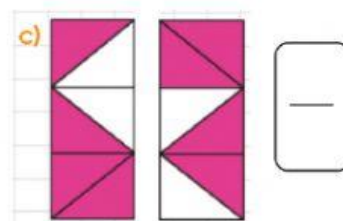
- 1) Se quieren repartir 14 alfajores entre 5 amigos de manera tal que todos reciban la misma cantidad y que no sobre nada. ¿Cuánto recibe cada uno?

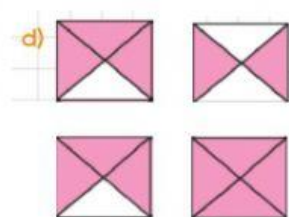
**Rta:** cada uno recibe      alfajores enteros y      .

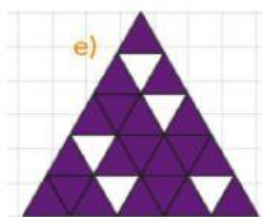
- 2) Escribí la fracción que representan los casilleros pintados en cada caso.

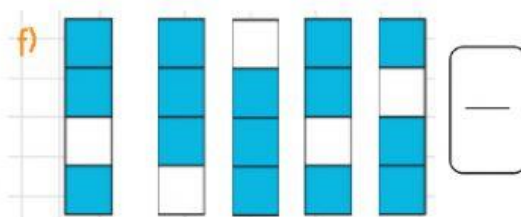













- 3) Este segmento de 4 cm representa  $\frac{2}{5}$  de un entero.



- Un segmento que represente  $\frac{3}{5}$  del mismo entero mide      cm.
- El segmento entero mide      cm.

No te olvides de oprimir el botón ¡Terminado! y colocar tu nombre y apellido cuando termines todas las actividades.